



مادة: الجغرافيا  
مدة: 60 دقيقة  
المستوى: 7 أساسي

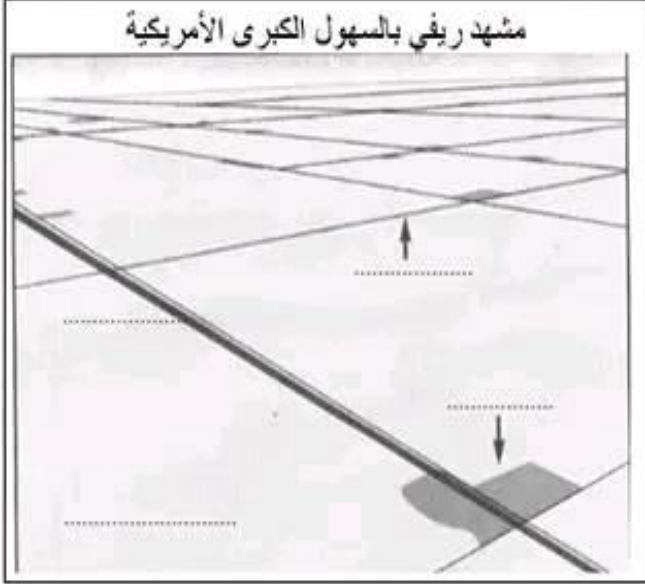
## الفرض التآلفي الثالث

الاسم: .....  
اللقب: .....  
القسم: .....

### I القسم الأول : ( 7 نقاط )

12

1. عرف بخصائص المستغلة الفلاحية للزراعات البيئية العصرية :



.....  
.....  
.....  
.....

2. أكمل الفراغات على الرسم ولون حقول القمح

12

بالأصفر:


المفتاح:  
حقول القمح

3. أكمل الفراغات للتعرف على خصائص الأحواض في مشهد ريفي يعتمد على الزراعة السقوية وأهم وظائفها: تتوزع على كامل ..... باستثناء بعض المساحات المحدودة ( ..... - مساكن - ..... ) تستخدم ل ..... الأرز ثم ..... ولا تقطع عنها ..... إلا قبل فترة وجيزة من حصاده.

13

### II القسم الثاني : ( 11 نقاط ) تحليل وثيقة : أجب على الأسئلة بالاعتماد على هذه الوثيقة ومستعينا بما درست:

العنوان: مقطع لمدينة من العالم .....



16

1. أكمل أسماء مكونات المدينة على الرسم والأجزاء الناقصة فيها:

12

2. حدد من خلال العنوان المجال الذي تنتمي له هذه المدينة ( المتقدم أو النامي ).

3. أذكر 3 مشاكل بارزة تعاني منها.

.....  
.....  
.....

13

### الصيانة والتنظيف





مادة: الجغرافيا  
مدة: 60 دقيقة  
المستوى: 7 أساسي

## اصلاح الفرض التألفي الثالث (المثال 2)

### I القسم الأول : (7 نقاط)

12

1. التمرين الأول:

هي حقول منبسطة وممتدة وخصبة وهي مفتوحة غير مسيجة تهتم بإنتاج الحبوب وخاصة القمح بالطرق العصرية.



12

2. التمرين الثاني:

المفتاح:  
حقول القمح




13

3. التمرين الثالث:

تتوزع على كامل **الدلتا** باستثناء بعض المساحات المحدودة (تلال - مساكن - حواجز) تستخدم لتشتيل الأرز ثم غرضه ولا تقطع عنها **المياه** إلا قبل فترة وجيزة من حصاده.

### II القسم الثاني : (11 نقاط) تحليل وثيقة :

العنوان: مقطع لمدينة من العالم النامي



16

1. التمرين الأول: (انظر الإجابة على الرسم)

12

2. التمرين الثاني: (انظر الإجابة على الرسم)

13

3. التمرين الثالث:

- الاكتظاظ بسبب عدم تلاوم تهيئتها مع ضخامة عدد سكانها.

- كثرة عدد الفقراء والنازحين الذين يستقرون في الأحياء القصديرية.

- تعدد المشاكل الناجمة عن الفقر مثل قلة الخدمات الموفرة للمواطنين (تعليم - صحة - غذاء - شغل....).

الصيانة والتقنية



## اصلاح الفرض التالفي الثالث (المثال1)

### I القسم الأول : (7 نقاط)

12

1. التمرين الأول :

هو زاوية رؤية لمجال ريفي يمثل وسط عيش الريفيين وأنشطتهم وهو وسط طبيعي يتأثر بتدخل الإنسان حسب إمكانياته ونوع أنشطته مما يجعل المشاهد الريفية مختلفة من مكان إلى آخر في العالم.



2. التمرين الثاني :

المفتاح:

أحواض وحقول الأرز

المسالك المائية

12

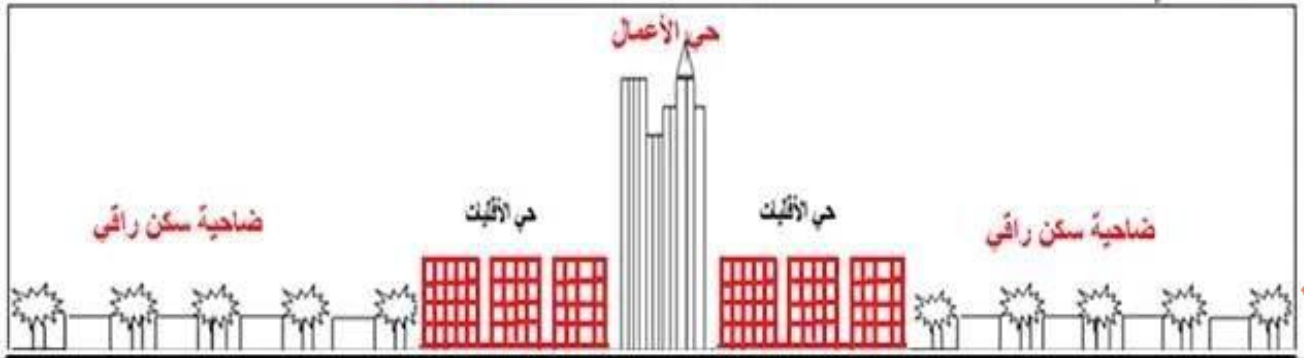
13

3. التمرين الثالث :

هي أراضي منبسطة ممتدة وخصبة وهي حقول مفتوحة تنتج الحبوب وخاصة القمح بالطرق العصرية.

### II القسم الثاني : (11 نقاط) تحليل وثيقة :

العنوان: مقطع لمدينة متقدمة أمريكية



16

1. التمرين الأول: (انظر الإجابة على الرسم)

12

2. التمرين الثاني: (انظر الإجابة على الرسم)

13

3. التمرين الثالث:

- شدة الاكتظاظ في وسط المدينة خلال النهار.
- خطورة التلوث بسبب كثرة وسائل النقل الخاصة.
- كثرة استهلاك الطاقة والاعتماد عليها في الحركة داخل البنائات ذات الامتداد العمودي.

2. الصيانة والتنظف



مادة: الجغرافيا  
مدة: 60 دقيقة  
المستوى: 7 أساسي

الاسم: .....  
اللقب: .....  
القسم: .....

## الفرض التآلفى الثالث

### I القسم الأول : ( 7 نقاط )

12

1. عرف المشهد الريفي :



مشهد ريفي يدلنا الميكونغ

2. لون أحواض وحقول الأرز بالأخضر والمسالك المائية بالأزرق:

12

المفتاح:  
أحواض وحقول الأرز


المسالك المائية

3. أكمل الفراغات للتعرف على خصائص المستغلة الفلاحية في السهول الكبرى الأمريكية وأهم وظائفها: هي أراضي ..... ممتدة و ..... وهي حقول ..... تنتج ..... وخاصة ..... بالطرق

13

II القسم الثاني : ( 11 نقاط ) تحليل وثيقة : أجب على الأسئلة بالاعتماد على هذه الوثيقة ومستعينا بما درسته:

العنوان: مقطع لمدينة متقدمة .....



16

1. أكمل أسماء مكونات المدينة على الرسم والأجزاء الناقصة فيها:

12

2. حدد من خلال العنوان المجال الذي تنتمي له هذه المدينة ( أمريكي أو أوروبي ).

3. أذكر 3 مشاكل بارزة تعاني منها.

13

الصيانة والتنظيف



# مرحبا بكم علي منصة مراجعة



**COLLEGE.MOURAJAA.COM**



**NEWS.MOURAJAA.COM**

