



إداده: التاريخ
دقه: 30 دقيقة
المستوى التعليمي: 7 أساسي

الإسم:
اللقب:
القسم:

فرض المراقبة الثالث

I القسم الأول : (8 نقاط)

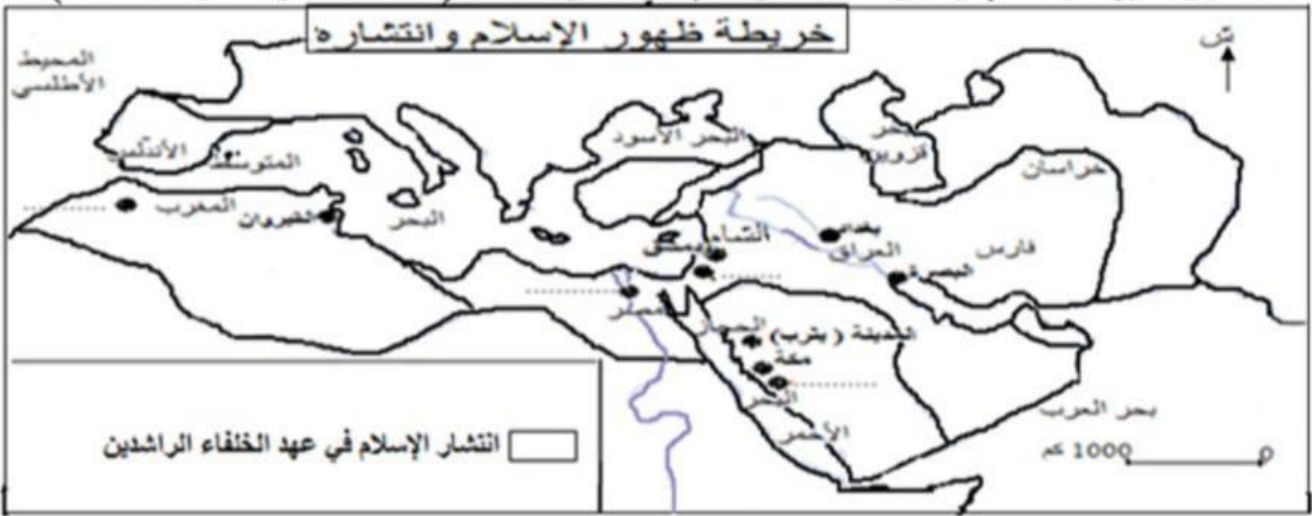
1. أكمل السلم الزمني بما يناسب:

500 م / م / 610 م / 632 م / 661 م / 750 م
ق 53 هـ / ق 13 هـ / هـ / 40 هـ / 132 هـ



مولد ظهور الإسلام وفاة الرسول (ص) مقتل علي بن أبي طالب ظهور الدولة 14

2. لون الخريطة ومفتاحها وسجل أسماء المدن التالية في المكان المناسب (الطائف - القدس - فاس - القسطنطينية): 14



II القسم الثاني : (10 نقاط) تحليل وثيقة :

"... فما وجد الحكمان - وهما أبو موسى الأشعري.. وعمر بن الخطاب القرشي - في كتاب الله عز وجل عملاً به وما لم يجد في كتاب الله عز وجل فالسنة العادلة الجامعة غير المفرقة وأخذ الحكمان من علي ومعاوية ومن الجندين من العهود والمواثيق والثقة من الناس أنهما أمانان على أنفسهما وأهلئهما والأمة لهما أنصار على الذي يتفاضيان عليه وعلى المؤمنين والمسلمين من الطائفتين كلتيهما عهد الله وميثاقه..."

الطبري: مؤرخ عربي توفي سنة 310 هـ.

أجب على هذه الأسئلة بالاعتماد على الوثيقة ومستعينا بما درسته:

1. سطر من هذه العناوين ما يناسب لهذه الوثيقة (معركة صفين - الصراع بين علي ومعاوية - التحكيم) ثم قدمها (نوعها - موضوعها - مصدرها) :

13.....

2. أكمل الجدول للتعرف على الحكم الذي يمثل طرفي النزاع:

| | |
|-----------------|---------------------|
| علي بن أبي طالب | معاوية بن أبي سفيان |
| | |

3. ما هي ظروف قبول علي بن أبي طالب بالتحكيم؟ وهل كان منصفاً له؟

15.....

الصياغة والتقنية





سأده: التاريخ
سده: 30 دقيقة
المستوى التعليمي: 7 أساسي

الاسم:
اللقب:
القسم:

فرض المراقبة الثالث

I القسم الأول : (8 نقاط)

1. أكمل السلم الزمني بما يناسب:



1. لون الخريطة ومفتاحها وسجل أسماء المدن التالية في المكان المناسب (الفيوان - مكة - دمشق - البصرة):



II القسم الثاني : (10 نقاط) تحليل وثيقة :

" فيأتيها (بغداد) التجارات والمير برا وبحرا بأيسر السعر حتى تكامل بها كل متجر، يحمل من المشرق والمغرب، من أرض الإسلام، وغير أرض الإسلام، فإنه يحمل إليها من الهند، والسند والصين والتبت، والترك والديلم والخزر والحبشة وسائر البلدان ... حتى كأنما سيقت إليها خيرات الأرض، وجمعت فيها ذخائر الدنيا ... فلكل تجار وتجاره شوارع معلومة وصفوف في تلك الشوارع، وحوانيت ... وليس يختلط قوم بقوم، ولا تجارة بتجارة، ولا يباع صنف مع غير صنفه. "

"مؤرخ وجغرافي بغدادي عاش خلال القرن 3 هـ من أشهر مؤلفاته "التاريخ" و"البلدان"

أجب على هذه الأسئلة بالاعتماد على الوثيقة ومستعينا بما درست:

12.5

1. أذكر نوع الوثيقة وموضوعها واطر أنسب هذه العناوين لها:

هذه الوثيقة بتعلق موضوعه ب.....
(بغداد مركز تجاري عالمي في العهد الأموي - بغداد ملتقى المسالك التجارية في العهد العباسي الأول - بغداد والتجارة مع المغرب)

14.5

2. استخرج من الوثيقة المناطق التي ربطت معها بغداد علاقات تجارية :

مناطق آسيوية :
مناطق إفريقية :

13

3. أذكر أهم العوامل التي ساعدت على هذا الازدهار التجاري:

الصياغة والتلخيص



اصلاح فرض المراقبة الثالث (مثال 1)

I القسم الأول : (8 نقاط)

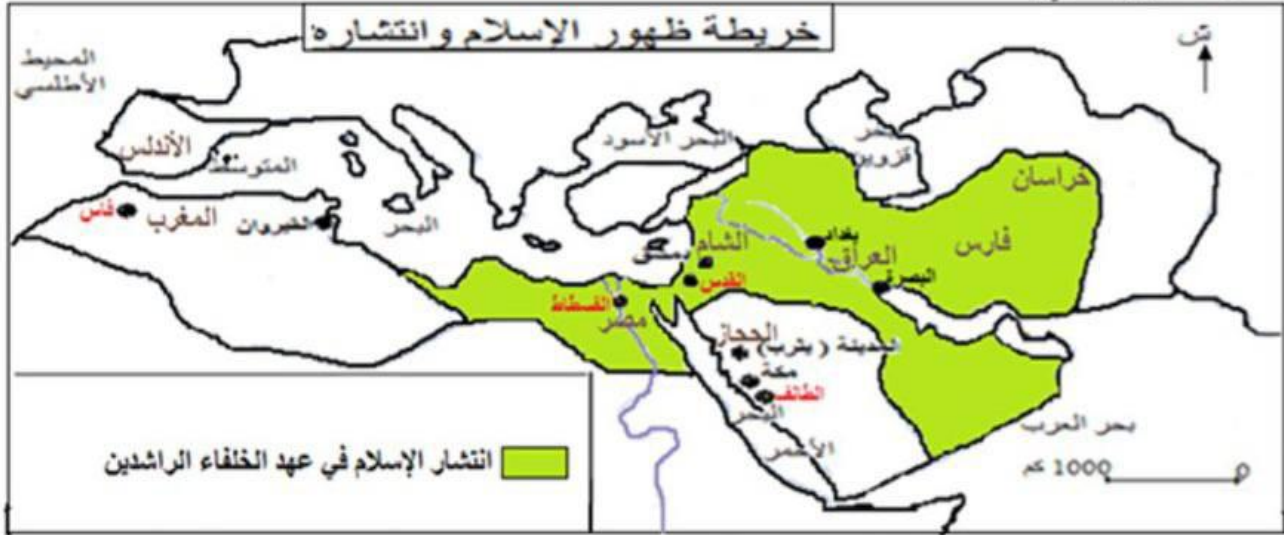
1. التمرين الأول:

14



14

2. التمرين الثاني:



II القسم الثاني : (10 نقاط) تحليل وثيقة :

1. التمرين الأول: (معركة صفين - الصراع بين علي ومعاوية - التحكيم)

هذه الوثيقة نص تاريخي يتعلق بموضوعه بالتحكيم كإجراء لجأ له المتحاربان في معركة صفين لحقن دماء المسلمين. وقد أخذ من تاريخ الرسل والملوك الجزء 5 صفحتي 35 و45 للمؤرخ الطبري.

2. التمرين الثاني:

| | |
|------------------|---------------------|
| علي بن أبي طالب | معاوية بن أبي سفيان |
| أبو موسى الأشعري | عمرو بن العاص |

3. التمرين الثالث:

لما أشرف جيش معاوية على الانهزام في معركة صفين نصح برفع المصاحف على أسنة السيوف والرمح والمطالبة بالتحكيم وهو ما يعني إيقاف المعركة وإعادة النظر في مسألة خلافة المسلمين من قبل حكّمين يتأخّراهما من قبل الطرفين المتحاربين ولحقن دماء المسلمين وتجنب دوس المصحف قبل علي بن أبي طالب بإيقاف المعركة إلا أن التحكيم لم يكن منصفا لعلي بن أبي طالب بل زاد في تفاقم المشكلة فقد تقاسم معاوية مع حكم الدولة بأن أصبح يحكم بلاد الشام ومصر كما تسبب التحكيم في ظهور الخوارج الذين هم علي بن أبي طالب.

اصلاح فرض المراقبة الثالث (مثال 3)

I القسم الأول : (8 نقاط)

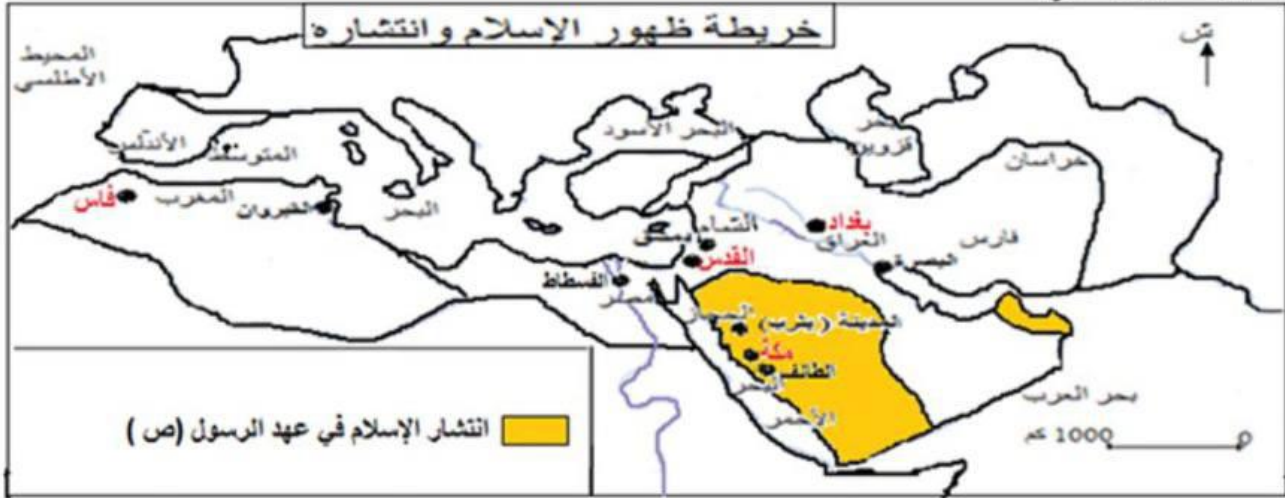
1. التمرين الأول:

14



2. التمرين الثاني:

14



II القسم الثاني : (10 نقاط) تحرير فقرة

1. المقدمة:

1.5

عاشت الدولة الإسلامية منذ نهاية عهد الخليفة الراشد عثمان بن عفان رضي الله عنه فترة من الخلافات تحولت إلى صراعات حادة في عهد الخليفة علي بن أبي طالب رضي الله عنه وقد سميت هذه الفترة بالفتنة الكبرى. فم هي أبرز مراحلها؟

2. الجوهر:

17

بدأت الفتنة الكبرى بقتل الخليفة الراشد الثالث عثمان بن عفان رضي الله عنه من قبل الشانين المحاصرين لمنزله. وتواصلت بالصراعات في عهد علي بن أبي طالب رضي الله عنه فقد احتدت المعارضة ضده. وكان طلحة والزبير وعائشة أول المعارضين لسياسته فقد طالبوه بالانقصاص من قتل عثمان بن عفان، فاضطر علي بن أبي طالب لخوض معركة الجمل ضدهم سنة 36 هـ وقد قتل على إثرها كل من طلحة والزبير.

تواصلت أحداث الفتنة الكبرى مع معاوية بن أبي سفيان الذي كان والياً على الشام ورفض قرار عزلته من قبل الخليفة علي بن أبي طالب فقد طالبه بالتخلي عن الحكم على أساس أن أهل الشام لم يبايعوه لتولي الخلافة وهذه المرة أيضاً اضطر علي بن أبي طالب لخوض معركة صفين سنة 37 هـ وفي وقت كاد فيه جيشه ينتصر تتوقف المعركة ويلجأ الطرفان للتحكيم.

رفضت مجموعة من أنصار علي بن أبي طالب قراره إيقاف معركة صفين وخرجت عن طاعته وسميت هذه الفئة بالخوارج وقد رفعت السلاح على جيش علي بن أبي طالب فحاربهم في معركة النهروان سنة 38 هـ وهزمهم فانقسموا إلى عدة فرق انتهت الفتنة الكبرى بقتل علي بن أبي طالب من قبل أحد الخوارج (عبد الرحمن بن ملجم) سنة 40 هـ وتخلي ابنه الحسن عن الحكم لفائدة معاوية بن أبي سفيان سنة 41 هـ.

3. الخاتمة:

1.5

سببت هذه الفتنة في مقتل خليفتين وفي انقسام المسلمين إلى أحزاب سياسية (سنة - شيعة - خوارج) لا زالت آثار هذا الانقسام إلى اليوم وخاصة انتهاء فترة الخلافة الراشدة وتولي الأمويين الحكم. فهل سيواصل الأمويون سياسة الخلفاء الراشدين؟

الصياغة والتنظير

مرحبا بكم علي منصة مراجعة



COLLEGE.MOURAJAA.COM



NEWS.MOURAJAA.COM

