



الترمين، 30 حدق	الأستاذ، جومر الحاج سعد	القسم، 517
الاسم،	اللقب،	الرقم،

القسم الأول 6 ن،

1. حدد ثلاثة عوامل لازدهار تجارة قرطاج البحرية:

- ❖ الموقع الاستراتيجي
- ❖ اكتشفت طرق جديدة في المحيط الأطلسي
- ❖ إبرام معاهدات تجارية مع روما

2. حدد تواريخ الأحداث التالية:

- ❖ تأسيس قرطاج: 814 ق.م
- ❖ اندلاع الحرب البونيقية الأولى: 264 ق.م
- ❖ نهاية الحرب البونيقية الأولى: 241 ق.م

القسم الثاني 12 ن: طموحات الرومان: وثيقة 1 حد

...لم يكن لدى الرومان دوما إلا سبب واحد لشن الحرب على كل الأمم و على كل الشعوب و هو رغبتهم المفترطة في الحكم و امتلاك الثروات...

سالوستوس

وثيقة 2 حد

..أيقن الرومان انه بسيطرة القرطاجيين على جزيرة صقلية سيبدون أنفسهم محاصرين من طرفه أعداء خطيرين

بولوبيوس

أجب عن الأسئلة التالية معتمدا الوثيقتين و ما درست.

1. استخرج من الوثيقتين سببا لاندلاع الحرب البونيقية الأولى.
 2. معتمدا على مكتسباتك، اذكر سببا آخر للحرب البونيقية الأولى.
 3. حدد ثلاثة شروط فرضها المنتصرون على المنهزمين إثر نهاية الحرب.
- 2 ن، السياحة و التنظيم





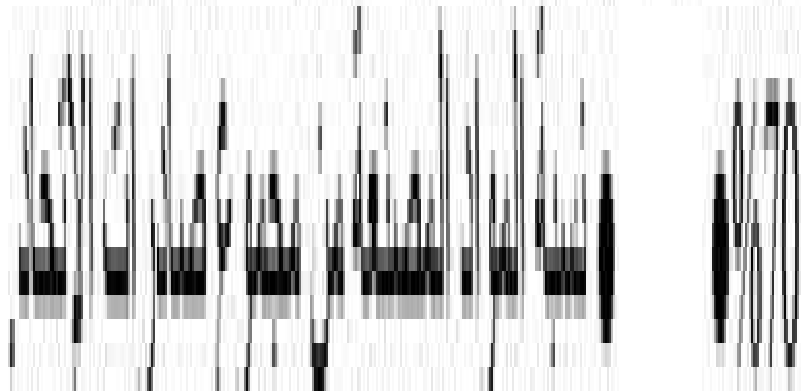




موقع مراجعة اعدادي
COLLEGE.MOURAJAA.COM

موقع مراجعة اعدادي
COLLEGE.MOURAJAA.COM

موقع مراجعة اعدادي
COLLEGE.MOURAJAA.COM









تحرير فقرة (12 نقطة)

الموضوع: عرف من خلال فقرة بمظاهر الازدهار العمراني في ارضنا البروقصبة خلال القرن II م.

يمكن تحليل هذا الموضوع كما يلي:

1.5 في العظمة: نلهم عام عن الازدهار الذي شهدته ارضنا البروقصبة خلال القرن II م ثم نحدد الاشكاله.

في العهور: نحلل كل مظاهر الازدهار العمراني مع ضرورة ايراد التحليل بالتعريف بالمشكك العمودية المميزة للمدن.

1.9 الرومانية في ارضنا البروقصبة خلال القرن II م ونذكر امثلة دقيقة منها.

1.5 في العظمة: استنتاج رقيق يخصص العوامل التي ساعدت على هذا الازدهار.





15

15

15

15





التوقيت : 30 دقيقة

مدرس التاريخ : د. محمد بن عبد الله

العدد : 19 / 2017

القسم :
الرقم :
التاريخ :

القسم الأول : (8 ن)

- اربط بسهم : 4 ن |

المعاهدة الأولى بين روما وقرطاج ← 350 ق م

المعاهد الثانية بين روما وقرطاج ← 384 ق م

- عرف ب : 4 ن

الرومنة : 4 ن |

هي... ما هي... روما... لاندماج... سكان... الولاية... المأبودة... لها... وذلك... بدأ... عندما...
... من... د... منها... منح... حق... المواطنين...

القسم الثاني : (20 ن)

معاهدة السلام بين روما وقرطاج التي تعرب الأولى
لما انتهت حرب صقلية أسس الرومان وقرطاجيون معاهدة لكثيرة كانت بمرور الأيام
بمسح القرطاجيون من مدينة كاسيا و من تلك الحرب الواقعة بين اشيا و حروب ماسية... يستمر كل من الشعبين
الذين لطفاه الطرف الأول... تولى القرطاجيون على مدى عشرين سنة رفع الكفن و مائة مائة أوبون و الكه طقتهم
حالا و يتم ارجاع كل الأمور إلى الرومان حالا و بدون قاية.
بولسيوس : التاريخ - الثالث الثالث : الفصل 27
4 مائتوم : وحنان ورن وشد على لاخرى و الرومن : حلوويين : نسبة إلى جزيرة ليبيا الإغريقية.

- قدم الوثيقة : 3 ن

- 2017... الوثيقة... هي... تسمى... اجماري... نتحدث عن... معاهدة... السلام... بين...
روما وقرطاج... الأمر... التعريب... الأول... من... هو... ليديوس... التاريخ... الباب... الثالث...
الفصل 27
حدد من خلال الوثيقة مكان الصراع بين روما وقرطاج : 3 ن
مكان... الصراع... بين... روما وقرطاج... هي... هفلية...





سبأ وثيقة (12 نقطة):

الفوزان وثيقة المؤسسات الصناعية في الإتحاد الأوروبي سنة 2002

المؤشر	الصف	المؤسسات الصغرى والمتوسطة	المؤسسات الكبرى
النسبة من إجمالي عدد المؤسسات		99.7%	0.3%
النسبة من مجموع النشيطين		66.9%	33.1%
النسبة من إجمالي القيمة المضافة في القطاع الصناعي		59.7%	40.3%

المصدر: أوروبستات 2002

أجب على الأسئلة بالاعتماد على هذه الوثيقة ومستعينا بما درست:

1. قدم الوثيقة (نوعها وموضوعها ومصدرها):
2. بين من خلال الوثيقة أي المؤسسات الصناعية تتميز بدور اجتماعي هام
3. بين من خلال الوثيقة أي المؤسسات الصناعية تتفوق بأهمية دورها الاقتصادي





① عوامل القوة التجارية

- ظهور الاسس التجارية
- إتقان التجارة البحرية البحرية التي ورثوها عن الفينيقيين
- إبرام معاهدات تجارية مع روما ووضوح حدودها

القدرات

- اكتشاف طرق ومسالك جديدة
- فن الخدع والأساليب بعد رحلاتهم صون وفنالك

② حاولت قرطاج ~~من~~ من مستوئنة فنيقية إلى امبراطورية تجارية نشطة سعة تتميز بطابعها الساطع :

- سواحل لوبيث
- الحزر الواقعة في الكوشة
- الغرني خاصة ثقلية
- بلاد الأيبار (إيبيريا)





العنوان: أهم البلدان المصدرة والموردة للبضائع سنة 2011 (بالمليار دولار)

المنطقة أو البلد	قيمة الصادرات	نسبتها العالمية	قيمة الواردات	نسبتها العالمية
الولايات المتحدة الأمريكية	1480	% 8.1	2266	% 12.3
الصين	1898	% 10.4	1743	% 9.5
اليابان	823	% 4.5	855	% 4.6
الهند	305	% 1.7	463	% 2.5
الإتحاد الأوروبي	4511	% 24.6	4597	% 24.9

المصدر: تقرير المنظمة العالمية للتجارة سنة 2011

أجب على الأسئلة بالاعتماد على الوثيقة ومستعينا بالدرس:

1. قدم نوع الوثيقة وموضوعها ومصدرها:

2. بين مكانة الإتحاد الأوروبي في التجارة العالمية سنة 2011 على مستوى قيمة المبادلات (صادرات

وواردات) ونسبتها من المجموع العالمي:

3. بين خاصية الميزان التجاري للإتحاد الأوروبي سنة 2011 (حدد قيمة الفائض أو العجز) وهل هي خاصية

على هذه السنة؟ (دعم الإجابة بمعلومات دقيقة).





اعتمادية ابن الفبره 2014/2015

فرض تأليفى 2

السنة 7 اساسي 12/8

الأستاذ جعفر الحاج سعد

التزمين 30

الاسم: اللقب: الرقم:

القسم الأول 6 ن:

1. * حدد عاملين ساهما في نمو المدن في البروقنصلية في القرن الثاني ميلادي.
* سد صيغ اذكر باطمة على الايران
* تاسيس لمدن الروماننة

* تعرف المصطلحين المواليين:

2. حدد تاريخ الحدثين:
* ساحة الفوروم
* الكابيتولوم
* ساحة عروسة توسط المدينة
* لعبت حيث توضع التماثيل
* حدد تاريخ الحدثين:
* انطلاق الحرب البونية الثالثة
* تاسيس البروقنصلية
149 ق م
27 ق م

وثيقة تاريخية

القسم الثاني 12 ن:

...و لم يكن أي جهد قادرا على ارضاق جسمه و احباط غريزته... و كانت ثيابه عاجية... و كان احسن الفرسان و كان اول المتقدمين للمعركة و آخر المنسحقين منها... و عندما انصره في الحرب فرضت عليه روما شروطا عجيبة:
لا يتوض حربا في افريقيا و لا خارجا بدون ترخيص من روما... و يرجع الي زعيمه البربر ما يمتلكه من اراضي...

و يرجع القرطاجيون كل السجناء و العبيد الرومان الي روما...

تيتوس ليفيوس: التاريخ الروماني

المطلوب: اجب عن الأسئلة الموائية معتمدا الوثيقة و ما درست.

1. استخرج من الوثيقة خصال جنبل.
2. اذكر اسباب الحرب التي قادها جنبل ضد روما.
3. اذكر شروطا اخرى فرضتها عليه روما لم ترد في الوثيقة.

2





الترعين: 30 حدق	الاستاذ: جوسر الحاج سعد	القسم: 517
الاسم:	اللقب:	الرقم:

القسم الأول 6ن:

1. حدد ثلاثة عوامل لازدهار تجارة قرطاج البحرية:

- ❖ الموقع الاستراتيجي
- ❖ اكتشفت طرق جديدة في الخط الملاحي
- ❖ ابرام معاهدات تجارية مع روما

2. حدد تواريخ الأحداث الموالية:

- ❖ تاسيس قرطاج: 814 ق.م
- ❖ اندلاع الحرب البونوية الاولى: 264 ق.م
- ❖ نهاية الحرب البونوية الاولى: 241 ق.م

القسم الثاني 12ن: طموحات الرومان: وثيقة 1 حد

...لم يكن لدى الرومان دوما إلا سبب واحد لشن الحرب على كل الأمم و على كل الشعوب و هو رغبتم المفردة في الحكم و امتلاك الثروات...

سالوستوس

وثيقة 2 حد

..ايقن الرومان أنه بسيطرة القرطاجيين على جزيرة صقلية سيبدون أنفسهم محاصرين من طرف أعداء خطيرين

بولوبيوس

اجب عن الأسئلة الموالية معتمدا الوثيقتين و ما درسه.

1. استخرج من الوثيقتين سببا لاندلاع الحرب البونوية الاولى.
 2. معتمدا على مكتسباتك، اذكر سببا آخر للحرب البونوية الاولى.
 3. حدد ثلاثة شروط فرضها المنتصرون على المنهزمين إثر نهاية الحرب.
2. الصياغة و التنظيم





(6 نقاط)

ر اسم اللوحة وصاحبها

13

بيته:

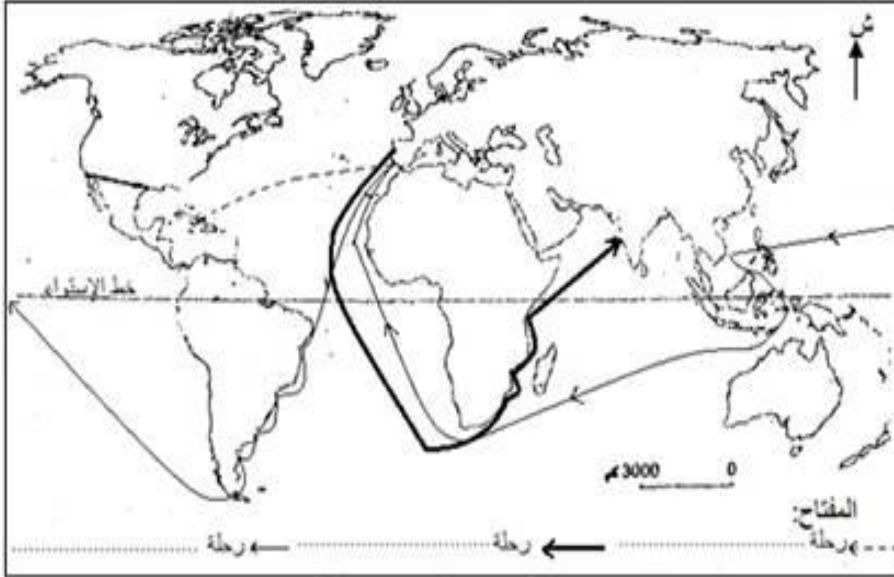
لوحة

سام



2. أكمل مفتاح الخريطة بما يناسب من أسماء المستكشفين: ماجلان - كريستوف كولومب - فاسكو دي قاما.

13



العنوان: خريطة الاكتشافات الجغرافية الكبرى

تصو الثاني: (12 نقطة) تحليل وثيقة:

مطالب الطبقة الثالثة في فرنسا في بداية 1789

"إن إقصاء الطبقة الثالثة الأكثر عددا ونفعا من الوظائف هو خنق للعبرية وللمواهب حيث يتمنع النبلاء بكل ازات فهم يفرغون الخزينة الملكية تلك الخزينة التي تملؤها الطبقة الثالثة وفي نهاية الأمر تمول الطبقة الثالثة شيء ولا تتمتع بأي شيء."

من كراسات مطالب الطبقة الثالثة في بداية سنة 1789

على الأسئلة بالاعتماد على الوثيقة ومستعينا بالدرس:

قدم نوع الوثيقة وموضوعها وإطارها التاريخي العام ثم سطر العنوان الذي تراه مناسباً لها:

13

تل البرجوازيين للطبقة الثالثة - استغلال النبلاء للطبقة الثالثة - معاناة الطبقة الثالثة في فرنسا خلال ق XIX

15

عرف بمكونات الطبقة الثالثة في فرنسا ووزنها الاجتماعي قبيل الثورة الفرنسية

14

أذكر مظلمتين للطبقة الثالثة ودعم إجابتك بأدلة واضحة من الوثيقة:

لغة 1:	الدليل من الوثيقة: "....."
لغة 2:	الدليل من الوثيقة: "....."

الصياغة والتنظير





الجزء الأول : (7 نقاط)

1. اربط القطاع الاقتصادي في الإتحاد الأوروبي بمعدل نصيبه من الناتج الداخلي الخام سنة 2012


- الفلاحة % 71
- الصناعة % 26.4
- الخدمات % 2.6

2. لون البلدان المؤسسة للإتحاد الأوروبي

بأكمل المفتاح : /4

مفتاح:

البلدان المؤسسة للإتحاد الأوروبي
سنة



I القسم الثاني : (11 نقطة) استغلال وثيقة .

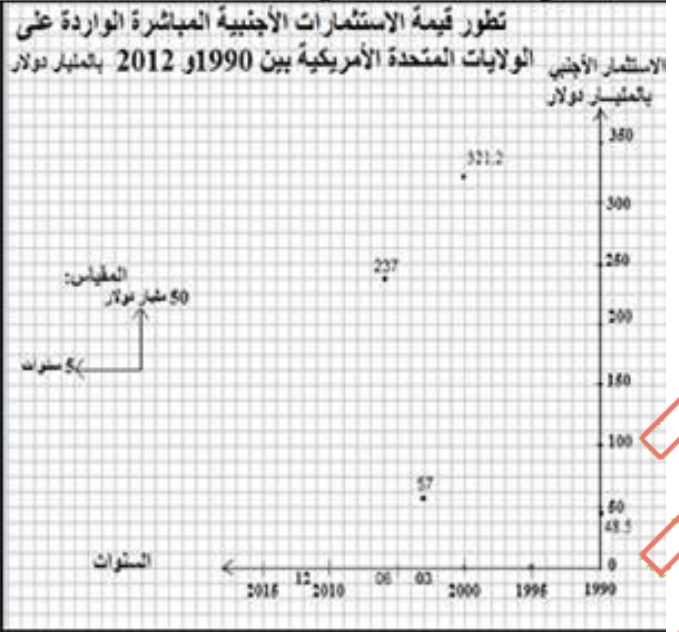
العنوان: تطور قيمة الاستثمارات الأجنبية المباشرة الواردة على الولايات المتحدة الأمريكية بين 1990 و 2012 بالمليار

السنة	1990	2000	2003	2006	2012
قيمة الاستثمارات	48.5	321.2	57	237

المصادر: منظمة التعاون والتنمية الاقتصادية 2005 وآفاق الاستثمار وملاح العالم الاقتصادية 2010 و

أجب على الأسئلة بالاعتماد على الوثيقة ومستعينا بالدرس

1. قدم نوع الوثيقة وموضوعها ومصدرها:



2. أكمل الفراغ في الوثيقة وأنجز بقية الرسم

البياني (منحنى):

3. تعرف على الأطوار (المراحل) التي شهدتها الاستثمار الأجنبي المباشر في الولايات المتحدة الأمر وأهم العوامل المؤثرة فيه:

الصياغة





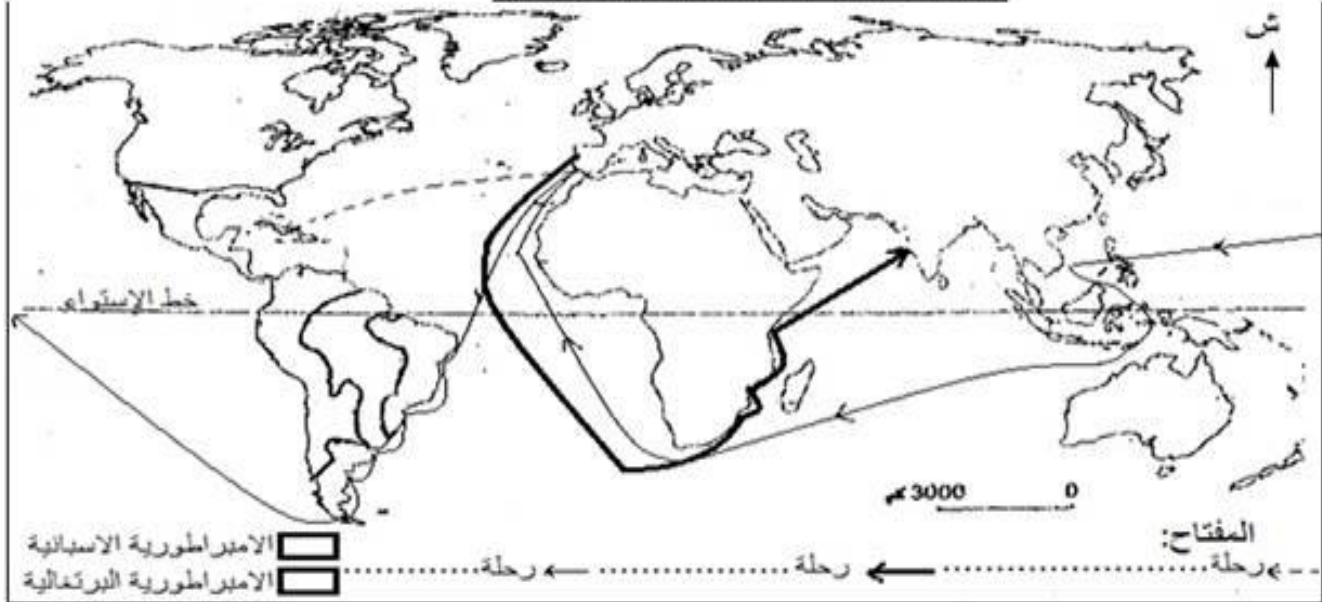
(6 نقاط)

1. اربط رواد حركة التنوير بفرنسا بفترة حياتهم وأهم مؤلفاتهم:

- | | |
|------------|---------------|
| • فولتير | • 1778 - 1712 |
| • مونتيكيو | • 1778 - 1694 |
| • روسو | • 1755 - 1689 |

2. أكمل الخريطة ومفتاحها بما يناسب :

العنوان: خريطة الاكتشافات الجغرافية الكبرى



القسم الثاني : (2 نقطة) تحليل وثيقة :

وان: لوحة " " لـ

1. قدم الإطار الزمني والمكاني العامين الذين رسمت

فيهما هذه اللوحة:



2

2. أكمل الفراغات في الوثيقة وعنوانها: (رافائيل - أثينا

- إقليدس - ابن رشد - أبولون - أفلاطون - مدرسة أثينا.

14

ميكانيل أنج)

3. قدم من خلال فقرة قصيرة بقية المعلومات الخاصة

بهذه اللوحة (قياساتها - مكان وجودها - تاريخ رسمها -

موضوعها - خصائصها الفنية)

6

السياحة والتاريخ





مادة: التاريخ
مدة: 30 دقيقة
المستوى التعليمي: 8 أساسي

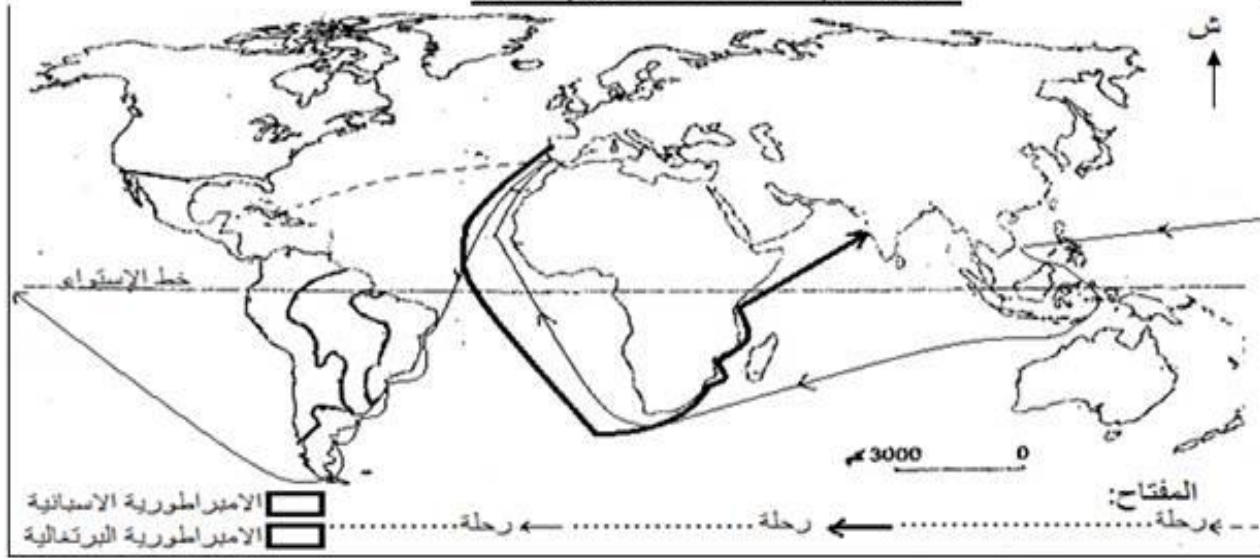
الاسم:
اللقب:
القسم:

فرض المراقبة الثاني

I الجزء الأول : (6 نقاط)

1. اربط رواد حركة التنوير بفرنسا بفترة حياتهم وأهم مؤلفاتهم:
● فولتير ● 1778 - 1712
● مونتيسكيو ● 1778 - 1694
● روسو ● 1755 - 1689
● روح القوانين
● العقد الاجتماعي
● رسائل فلسفية
2. أكمل الخريطة ومفتاحها بما يناسب :

العنوان: خريطة الاكتشافات الجغرافية الكبرى



II الجزء الثاني : (12 نقطة) تحليل وثيقة :

العنوان: لوحة "....." ل.....

1. قدم الإطار الزمني والمكاني العامين الذين رسمت فيهما هذه اللوحة:

2

2. أكمل الفراغات في الوثيقة وعنوانها: (رافائيل - أتينا - إقليدس - ابن رشد - أبولون - أفلاطون - مدرسة أتينا - ميكائيل أنج)

4

3. قدم من خلال فقرة قصيرة قصيرة بقية المعلومات الخاصة بهذه اللوحة (قياساتها - مكان وجودها - تاريخ رسمها - موضوعها - خصائصها الفنية)



6

الصيانة والت





المستوى التعليمي: 8 أساسي
مدة: 30 دقيقة
التاريخ:

الاسم:
اللقب:
القسم:

فرض المراقبة الثاني

II الجزء الأول : (6 نفاط)

1. أذكر اسم اللوحة وصاحبها

13

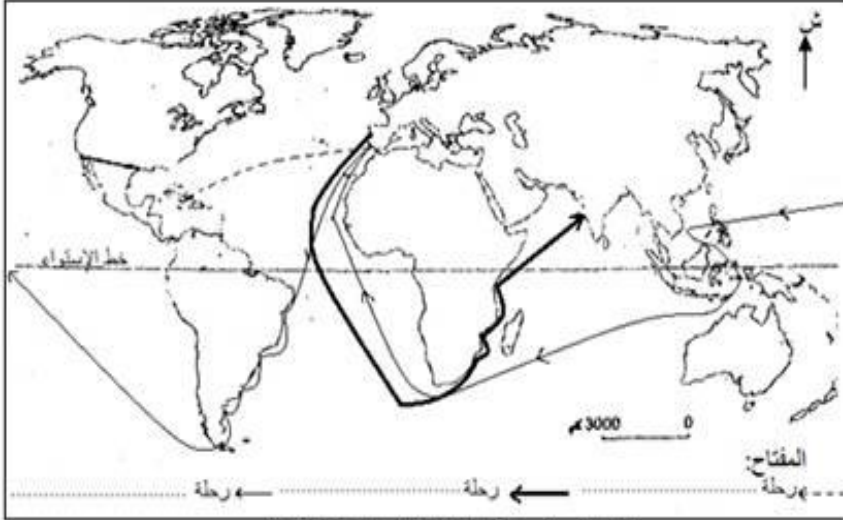
وجنسيته:

- هذه لوحة
- للرسم



2. أكمل مفتاح الخريطة بما يناسب من أسماء المستكشفين: ماجلان - كريستوف كولومب - فاسكو دي قاما.

13



العنوان: خريطة الاكتشافات الجغرافية الكبرى

III الجزء الثاني : (12 نقطة) تحليل وثيقة :

مطالب الطبقة الثالثة في فرنسا في بداية 1789

"إن إقصاء الطبقة الثالثة الأكثر عددا ونفعا من الوظائف هو خلق للعبقرية وللمواهب حيث يتمتع النبلاء بكل الامتيازات فهم يفرغون الخزينة الملكية تلك الخزينة التي تمسوها الطبقة الثالثة وفي نهاية الأمر تمول الطبقة الثالثة كل شيء ولا تتمتع بأي شيء."

من كراسات مطالب الطبقة الثالثة في بداية سنة 1789

أجب على الأسئلة بالاعتماد على الوثيقة ومستعينا بالدرس:

1. قدم نوع الوثيقة وموضوعها وإطارها التاريخي العام ثم سطر العنوان الذي تراه مناسباً لها:

13

استغلال البرجوازيين للطبقة الثالثة - استغلال النبلاء للطبقة الثالثة - معاناة الطبقة الثالثة في فرنسا خلال ق XIX

15

2. عرف بمكونات الطبقة الثالثة في فرنسا ووزنها الاجتماعي قبيل الثورة الفرنسية

14

3. أذكر مظلمتين للطبقة الثالثة ودعم إجابتك بأدلة واضحة من الوثيقة:

المظلمة 1:	الدليل من الوثيقة: "....."
المظلمة 2:	الدليل من الوثيقة: "....."

الصيانة والتبسيط

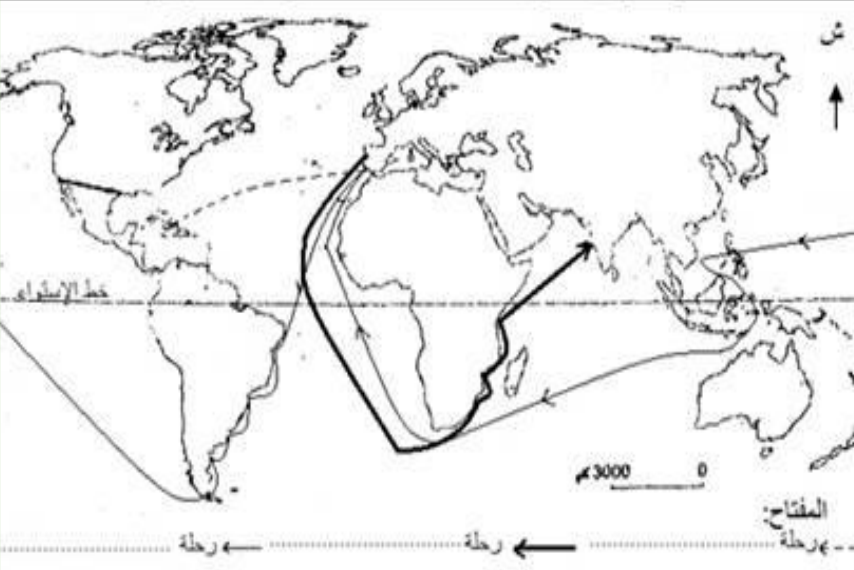




القسم الأول : (7 نقاط)

1. أكمل مفتاح الخريطة بما يناسب من أسماء المستكشفين: ماجلان - كريستوف كولومب - فاسكو دي قاما. /3

العنوان: خريطة الاكتشافات الجغرافية الكبرى



2. اربط المفكر بمجال بروزه: /2

- | | |
|-----------|-----------|
| ● إيرازم | ● الدين |
| ● فيزال | ● الفلسفة |
| ● كوبرنيك | ● الطب |
| ● لوثر | ● الفلك |

3. أذكر مظهرين للصبغة الإنسانية

للنهضة الفكرية الأوروبية: /2

- -
..... -
..... -

القسم الثاني : (11 نقطة) تحرير فقرة :

الموضوع: عرف من خلال فقرة بالطبقتين الاجتماعيتين الناتجتين عن الثورة الصناعية ومدى استفادة كل منهما من نتائجها.

5. في المقدمة: أشر إلى تعدد نتائج الثورة الصناعية في أوروبا الغربية ثم حدد إشكالية الفقرة.

3. في الجوهر: عرف بالطبقة المستفيدة من الثورة الصناعية ثم بالطبقة المستغلة خلالها.

5. في الخاتمة: أشر إلى مساعي الطبقة المستغلة إلى تحسين وضعيتها ثم افتح الأفاق بخصوص ذلك.





مادة: التاريخ
مدة: 60 دقيقة
المستوى التعليمي: 8 أساسي

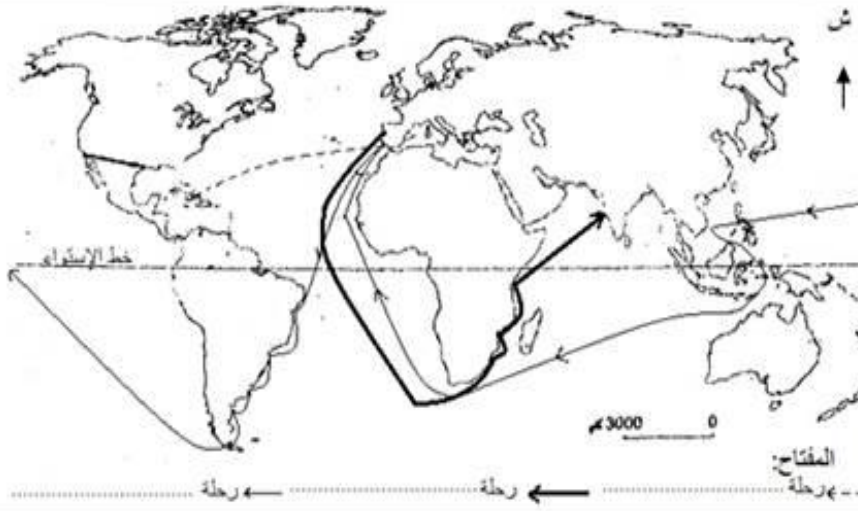
الاسم:
اللقب:
القسم:

الفرض التآلفي الثاني

القسم الأول : (7 نقات)

1. أكمل مفتاح الخريطة بما يناسب من أسماء المستكشفين: ماجلان - كريستوف كولومب - فاسكو دي قاما. /3

العنوان: خريطة الاكتشافات الجغرافية الكبرى



2. اربط المفكر بمجال بروزه: /2

- | | |
|-----------|-----------|
| ● إرازم | ● الدين |
| ● فيزال | ● الفلسفة |
| ● كوبرنيك | ● الطب |
| ● لوثر | ● الفلك |

3. أذكر مظهرين للصبغة الإنسانية للنهضة الفكرية الأوروبية: /2

-
.....
.....
.....

القسم الثاني : (11 نقطة) تحرير فقرة :

الموضوع: عرف من خلال فقرة بالطبقتين الاجتماعيتين الناتجتين عن الثورة الصناعية ومدى استفادة كل منهما من نتائجها.

1.5 في المقدمة: أشر إلى تعدد نتائج الثورة الصناعية في أوروبا الغربية ثم حدد إشكالية الفقرة.

-
.....
.....

8 في الجهر: عرف بالطبقة المستفيدة من الثورة الصناعية ثم بالطبقة المستغلة خلالها.

-
.....
.....

1.5 في الخاتمة: أشر إلى مساعي الطبقة المستغلة إلى تحسين وضعيتها ثم افتح الأفاق بخصوص ذلك.

-
.....
.....





مادة: التاريخ
مدة: 60 دقيقة
المستوى التعليمي: 8 أساسي

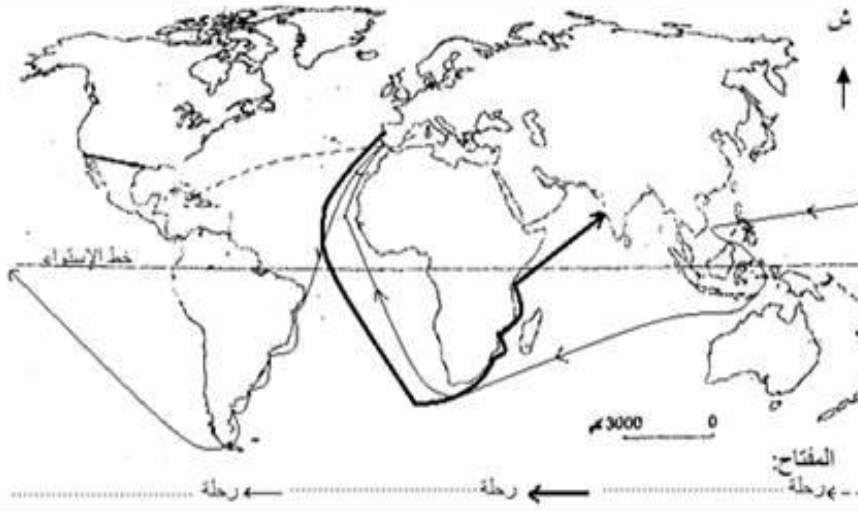
الاسم:
اللقب:
القسم:

الفرض التآلفي الثاني

القسم الأول : (7 نقاط)

1. أكمل مفتاح الخريطة بما يناسب من أسماء المستكشفين: ماجلان - كريستوف كولومب - فاسكو دي قاما. /3

العنوان: خريطة الاكتشافات الجغرافية الكبرى



2. اربط المفكر بمجال بروزه: /2

- | | |
|-----------|-----------|
| ● إرازم | ● الدين |
| ● فيزال | ● الفلسفة |
| ● كوبرنيك | ● الطب |
| ● لوثر | ● الفلك |

3. أذكر مظهرين للصبغة الإنسانية للنهضة الفكرية الأوروبية: /2

-
.....
.....
.....

القسم الثاني : (11 نقطة) تحرير فقرة :

الموضوع: عرف من خلال فقرة بالطبقتين الاجتماعيتين الناتجتين عن الثورة الصناعية ومدى استفادة كل منهما من نتائجها.

1.5 في المقدمة: أشر إلى تعدد نتائج الثورة الصناعية في أوروبا الغربية ثم حدد إشكالية الفقرة.

.....
.....
.....

8 في الجوهر: عرف بالطبقة المستفيدة من الثورة الصناعية ثم بالطبقة المستغلة خلالها.

.....
.....
.....

1.5 في الخاتمة: أشر إلى مساعي الطبقة المستغلة إلى تحسين وضعيتها ثم افتح الأفاق بخصوص ذلك.

.....
.....
.....





مادة: الجغرافيا
مدة: 30 دقيقة
المستوى التعليمي: 8 أساسي

الاسم:
اللقب:
القسم:

فرض المراقبة الثاني

I القسم الأول : (7 نقاط)

3/ 1. اربط القطاع الاقتصادي في الإتحاد الأوروبي بمعدل نصيبه من الناتج الداخلي الخام سنة 2012



- الفلاحة 71%
- الصناعة 26.4%
- الخدمات 2.6%

2. لون البلدان المؤسسة للإتحاد الأوروبي

وأكمل المفتاح : /4

المفتاح:

البلدان المؤسسة للإتحاد الأوروبي
سنة

II القسم الثاني : (11 نقطة) استغلال وثيقة


العنوان: تطور قيمة الاستثمارات الأجنبية المباشرة الواردة على الولايات المتحدة الأمريكية بين 1990 و 2012 بالمليار \$

السنة	1990	2000	2003	2006	2012
قيمة الاستثمارات	48.5	321.2	57	237

المصادر: منظمة التعاون والتنمية الاقتصادية 2005 وآفاق الاستثمار وملاح العالم الاقتصادية 2010 و 2013

أجب على الأسئلة بالاعتماد على الوثيقة ومستعينا بالدرس

2 1. قدم نوع الوثيقة وموضوعها ومصدرها:



2. أكمل الفراغ في الوثيقة وأنجز بقية الرسم

البياني (منحنى):

3. تعرف على الأطوار (المراحل) التي شهدتها

الاستثمار الأجنبي المباشر في الولايات المتحدة الأمريكية

وأهم العوامل المؤثرة فيه:

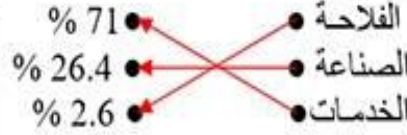
الصيانة والتزويد





المؤلول : (7 نقاط)

1. التمرين الأول:



2. التمرين الثاني:

المفتاح:

البلدان المؤسسة للإتحاد الأوروبي
سنة 1957



13



II القسم الثاني : (11 نقطة) استغلال وثيقة:

العنوان: تطور قيمة الاستثمارات الأجنبية المباشرة الواردة على الولايات المتحدة الأمريكية بين 1990 و2012 بالمليار \$

السنة	1990	2000	2003	2006	2012
قيمة الاستثمارات	48.5	321.2	57	237	257.4

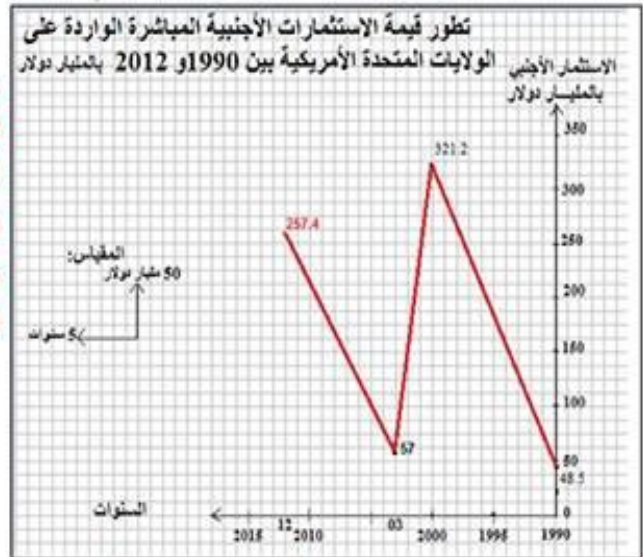
المصادر: منظمة التعاون والتنمية الاقتصادية 2005 وأفاق الاستثمار وملاح العالم الاقتصادية 2010 و2013

1. التمرين الأول:

هذه الوثيقة على شكل جدول تطوري يتعلق موضوعه بتطور قيمة الاستثمارات الأجنبية المباشرة الواردة على الولايات المتحدة الأمريكية بين 1990 و2012 وقد أخذت معطياته من مصادر متعددة منظمة التعاون والتنمية الاقتصادية 2005 وأفاق الاستثمار وملاح العالم الاقتصادية لسنتي 2010 و2013.

2. التمرين الثاني: (انظر الرسم البياني)

3. التمرين الثالث:



حسب الجدول والرسم البياني فإن الاستثمار الأجنبي المباشر في الولايات المتحدة الأمريكية بين سنتي 1990 و2012 قد مر بثلاثة مراحل (أطوار).

مرحلة أولى كانت مرحلة ارتفاع سريع في قيمة هذه الاستثمارات بين 1990 و2000 ساعدت عليه انتعاشة الاقتصاد الأمريكي والازدهار الكبير الذي شهده خلال هذه الفترة وقد بلغ أوجه (قمته) سنة 2000.

اما المرحلة الثانية والتي امتدت بين سنتي 2000 و2003 فقد انهارت خلالها الاستثمارات الأجنبية المباشرة في الولايات المتحدة الأمريكية إلى السدس (1/6) على إثر أحداث 11 سبتمبر 2001 فقادت الولايات المتحدة الأمريكية

حربا على الارهاب مكنتها من استعادة مكانتها في العالم فدخلت الاستثمارات الأجنبية المباشرة في الولايات المتحدة الأمريكية المرحلة الثالثة وهي مرحلة ازدهار كبير بعودة قيمة الاستثمارات إلى الارتفاع ثانية من 57 مليار دولار سنة

2003 إلى 257.4 مليار دولار سنة 2012. وبذلك نستنتج أهمية الاستقرار والازدهار الاقتصادي في التشجيع على الاستثمار الأجنبي المباشر.

الصياغة والتنبؤ






اصلاح فرض المراقبة الثاني (مثال 3)

مادة: الجغرافيا
مدة: 30 دقيقة
المستوى التعليمي: 8 أساسي

I القسم الأول : (7 نقاط)

1. التمرين الأول:



2. التمرين الثاني:

المفتاح:

البلدان المؤسسة للإتحاد الأوروبي
سنة 1957

13



II القسم الثاني : (11 نقطة) استغلال وثيقة:

العنوان: تطور قيمة الاستثمارات الأجنبية المباشرة الواردة على الولايات المتحدة الأمريكية بين 1990 و2012 بالمليار \$

السنة	1990	2000	2003	2006	2012
قيمة الاستثمارات	48.5	321.2	57	237	257.4

المصادر: منظمة التعاون والتنمية الاقتصادية 2005 وأفاق الاستثمار وملاح العالم الاقتصادية 2010 و2013

12 1. التمرين الأول:

هذه الوثيقة على شكل جدول تطوري يتعلق بموضوعه بتطور قيمة الاستثمارات الأجنبية المباشرة الواردة على الولايات المتحدة الأمريكية بين 1990 و2012 وقد أخذت معطياته من مصادر متعددة منظمة التعاون والتنمية الاقتصادية 2005 وأفاق الاستثمار وملاح العالم الاقتصادية لسنتي 2010 و2013.

13 2. التمرين الثاني: (انظر الرسم البياني)

16 3. التمرين الثالث:



حسب الجدول والرسم البياني فإن الاستثمار الأجنبي المباشر في الولايات المتحدة الأمريكية بين سنتي 1990 و2012 قد مر بثلاثة مراحل (أطوار).

مرحلة أولى كانت مرحلة ارتفاع سريع في قيمة هذه الاستثمارات بين 1990 و2000 ساعدت عليه انتعاشة الاقتصاد الأمريكي والازدهار الكبير الذي شهده خلال هذه الفترة وقد بلغ أوجه (قمته) سنة 2000.

اما المرحلة الثانية والتي امتدت بين سنتي 2000 و2003 فقد انهارت خلالها الاستثمارات الأجنبية المباشرة في الولايات المتحدة الأمريكية إلى السدس (1/6) على إثر أحداث 11 سبتمبر 2001 فقادته الولايات المتحدة الأمريكية

حربا على الارهاب مكنتها من استعادة مكانتها في العالم فدخلت الاستثمارات الأجنبية المباشرة في الولايات المتحدة الأمريكية المرحلة الثالثة وهي مرحلة ازدهار كبير بعودة قيمة الاستثمارات إلى الارتفاع ثانية من 57 مليار دولار سنة 2003 إلى 257.4 مليار دولار سنة 2012. وبذلك نستنتج أهمية الاستقرار والازدهار الاقتصادي في التشجيع على

الاستثمار الأجنبي المباشر.

الصياغة والتنظير





تاريخ و جغرافيا

8 أساسي دروس تمارين فروض إصلاح بحوث

I التمرين الأول: (/ تعاض)

/3



1. التمرين الأول:
● الفلاحة % 71
● الصناعة % 26.4
● الخدمات % 2.6
2. التمرين الثاني:
/4

المفتاح:

البلدان المؤسسة للإتحاد الأوروبي
سنة 1957

II القسم الثاني: (11 نقطة) استغلال وثيقة:

العنوان: تطور قيمة الاستثمارات الأجنبية المباشرة الواردة على الولايات المتحدة الأمريكية بين 1990 و 2012 بالمليار \$

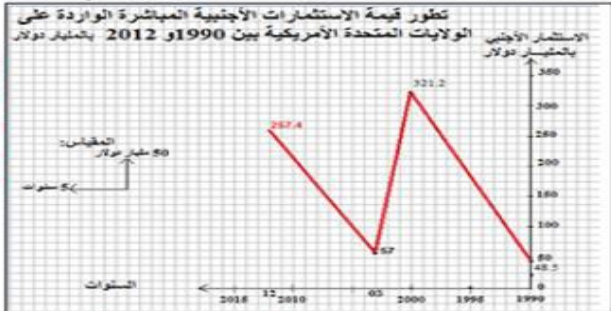
السنة	1990	2000	2003	2006	2012
قيمة الاستثمارات	48.5	321.2	57	237	257.4

المصادر: منظمة التعاون والتنمية الاقتصادية 2005 وأفاق الاستثمار وملاح العالم الاقتصادية 2010 و 2013

/2

1. التمرين الأول:

هذه الوثيقة على شكل جدول تطوري يتعلق موضوعه بتطور قيمة الاستثمارات الأجنبية المباشرة الواردة على الولايات المتحدة الأمريكية بين 1990 و 2012 وقد أخذت معطياته من مصادر متعددة منظمة التعاون والتنمية الاقتصادية 2005 وأفاق الاستثمار وملاح العالم الاقتصادية لسنة 2010 و 2013.



/3

2. التمرين الثاني: (انظر الرسم البياني)

/6

3. التمرين الثالث:

حسب الجدول والرسم البياني فإن الاستثمار الأجنبي المباشر في الولايات المتحدة الأمريكية بين سنتي 1990 و 2012 قد مر بثلاثة مراحل (أطوار).
مرحلة أولى كانت مرحلة ارتفاع سريع في قيمة هذه الاستثمارات بين 1990 و 2000 ساعدت عليه انتعاشة الاقتصاد الأمريكي والازدهار الكبير الذي شهدته خلال هذه الفترة وقد بلغ أوجه (قمته) سنة 2000.
أما المرحلة الثانية والتي امتدت بين سنتي 2000 و 2003 فقد انهارت خلالها الاستثمارات الأجنبية المباشرة في الولايات المتحدة الأمريكية إلى السدس (1/6) على إثر أحداث 11 سبتمبر 2001 فقادته الولايات المتحدة الأمريكية حربا على الارهاب مكنتها من استعادة مكانتها في العالم فدخلت الاستثمارات الأجنبية المباشرة في الولايات المتحدة الأمريكية المرحلة الثالثة وهي مرحلة ازدهار كبير يعود قيمة الاستثمارات إلى الارتفاع ثانية من 57 مليار دولار سنة 2003 إلى 257.4 مليار دولار سنة 2012. وبذلك نستنتج أهمية الاستقرار والازدهار الاقتصادي في التشجيع على الاستثمار الأجنبي المباشر.

السياحة والتنظيم /2

Publicité

تمارين في الجغرافيا: عبر تطبيق "تاج" على "Google Play Store"



موقع مراجعة اعدادي

COLLEGE.MOURAJAA.COM



مرحبا بكم علي منصة مراجعة



COLLEGE.MOURAJAA.COM



NEWS.MOURAJAA.COM

