



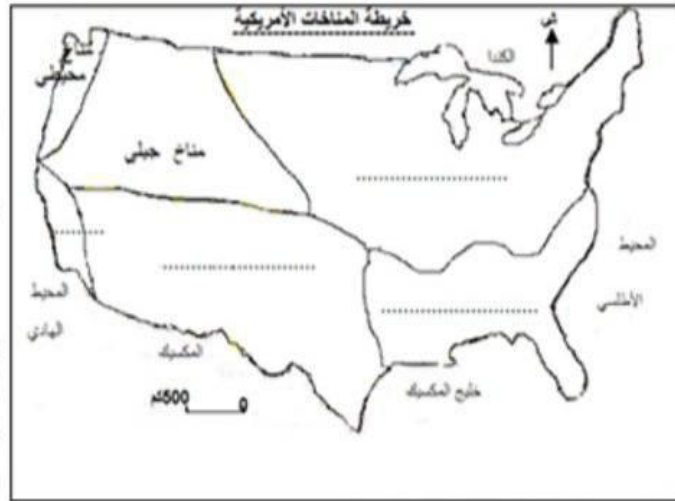
الاسم:
اللقب:
القسم:

الفرض التآلفي الأول

مادة: الجغرافيا
مدة: 60 دقيقة
المستوى التعليمي: 8 أساسي

I القسم الأول : (6 نقاط)

1. سجل على المواقع على الخريطة ما يناسب من أسماء هذه المناخات: (مناخ قاري رطب - مناخ متوسطي - مناخ قاري جاف - مناخ شبه مداري رطب).
2. اربط المدينة الأمريكية بعدد سكانها :
 - شيكاغو ● 21.2 مليون نسمة
 - لوس أنجلوس ● 16.4 مليون نسمة
 - نيو يورك ● 9.2 مليون نسمة
 - واشنطن ● 7.2 مليون نسمة



3. عرف الصناعات المتطورة:

12

II القسم الثاني : (12 نقطة) استغلال وثيقة :

العنوان: تطور مساهمة قطاع الخدمات في التشغيل وفي الناتج الداخلي الخام في الولايات المتحدة الأمريكية بين 1960 و 2012

السنوات	1960	1970	1987	2005	2012
نسبة المساهمة في التشغيل	61%	61%	72%	78%	-
في الناتج الداخلي الخام	60%	-	66%	77%	79%

المصدر: ملامح العالم الاقتصادية لسنوات 1988 و 2007 و 2013 و 2014

1. قدم الوثيقة: (نوعها موضوعها مصدرها)

12

2. حلل الحركة التطورية لمساهمة قطاع الخدمات في التشغيل والناتج الداخلي الخام الأمريكي:



14

3. أكمل رسم منحنى مساهمة قطاع الخدمات الأمريكي في الناتج الداخلي الخام بقلم رصاص ثم مرر بالأحمر على مساهمته في التشغيل. ماذا تستنتج؟

16

الصياغة والتنظير





مادة: الجغرافيا
المدة: 60 دقيقة
المستوى التعليمي: 8 أساسي

اصلاح الفرض التآلفى الأول (المثال 1)

I القسم الأول : (6 نقاط)

1. التمرين الأول: (انظر الخريطة) /3

2. التمرين الثاني: /2

- شيكاغو ● 21.2 مليون نسمة
- لوس أنجلس ● 16.4 مليون نسمة
- نيو يورك ● 9.2 مليون نسمة
- واشنطن ● 7.2 مليون نسمة



3. التمرين الثالث: /2

تسمى كذلك صناعات الجيل الثالث والصناعات ذات التقنية العالية نطلق تصنيعها بعد الحرب العالمية الثانية وتواصل إلى اليوم تضم صناعات غزو فضاء والطائرات والصناعات إلكترونية وصناعة تجهيزات الإعلامية وصناعة الطاقة النووية والأدوية والأسلحة المتطورة والتجهيزات طبية وغيرها من الصناعات الدقيقة.


II القسم الثاني : (12 نقطة) استغلال وثيقة :

1. التمرين الأول: /2

هذه الوثيقة على شكل جدول تطوري يتعلق موضوعه بتطور مساهمة قطاع الخدمات الأمريكي في التشغيل وفي الناتج الداخلي الخام للدولة وقد أخذت معطياته من ملامح العالم الاقتصادية لسنوات متعددة (1988-2007-2013-2014).

2. التمرين الثاني: /4

منذ منتصف القرن العشرين كانت مكانة قطاع الخدمات متميزة في الولايات المتحدة الأمريكية على مستوى التشغيل ومساهمتها في الناتج الداخلي الخام ففي سنة 1960 شغل قطاع الخدمات 61% من اليد العاملة الأمريكية ووفر 60% من الناتج الداخلي الخام الأمريكي وقد تدعمت هذه المكانة طيلة النصف الثاني للقرن العشرين وبداية القرن الواحد والعشرين فبلغت على مستوى التشغيل 78% والناتج الداخلي الخام 77% سنة 2005. وقد ارتفعت هذه النسب على حساب القطاعين الأول والثاني.



التمرين الثالث: (أنظر الرسم)

نستنتج أن نسق تطور مساهمة قطاع الخدمات كان سريعاً خلال النصف الثاني للقرن العشرين ثم تباطأ في بداية القرن الواحد والعشرين وفي المقابل كان نسق تطور مساهمته في الناتج الداخلي الخام أقل سرعة من التشغيل خلال النصف الثاني للقرن العشرين لكنه تجاوزه فيما بعد وعموماً يؤكد هذا الرسم البياني أن

السياحة والتخطيط





مدة: الجغرافيا
د: 60 دقيقة
المستوى التعليمي: 8 أساسي

الاسم:
اللقب:
القسم:

الفرض التالفي الأول

I القسم الأول : (7 نقاط)

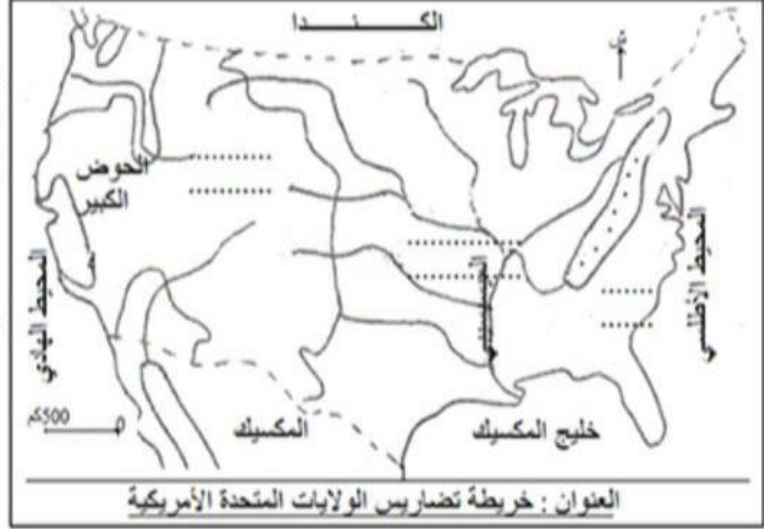
1. سجل على المواقع على الخريطة ما يناسب من هذه الأسماء: (جبال الأبلش - السهول الكبرى - السهل الأطلسي - جبال الروكي).

12

1. اربط الشركة الصناعية الأمريكية برتبها العالمية سنة 2005

12

- 2 ● جنرال موتورس
- 4 ● فورد
- 6 ● شفرون تاكساكو
- 9 ● أكسون موبيل



3. عرف الحرية ونسبة الأمية:

الحرية هي.....
نسبة الأمية هي.....

13

II القسم الثاني : (11 نقطة) استغلال وثيقة :

أجب على الأسئلة بالاعتماد على الوثيقة ومستعينا بالدرس:

1. قدم نوع الوثيقة وموضوعها ومصدرها :

المبادلات التجارية الأمريكية سنة 2012

1480	قيمة الصادرات بالمليار دولار
159	منها الفلاحية
2266	قيمة الواردات بالمليار دولار
104	منها الفلاحية
.....	الميزان التجاري العام (عاجز / فائض)
.....	الميزان الفلاحي (عاجز / فائض)

المصدر: ملامح العالم الاقتصادية لسنة 2014/2013

3. بين خصائص المبادلات الخارجية الأمريكية ثم عرف ببقية الخدمات التي توفرها الولايات المتحدة الأمريكية للعالم ومظاهر تكاملها مع هذه المبادلات:

16

الصيانة والتنظف

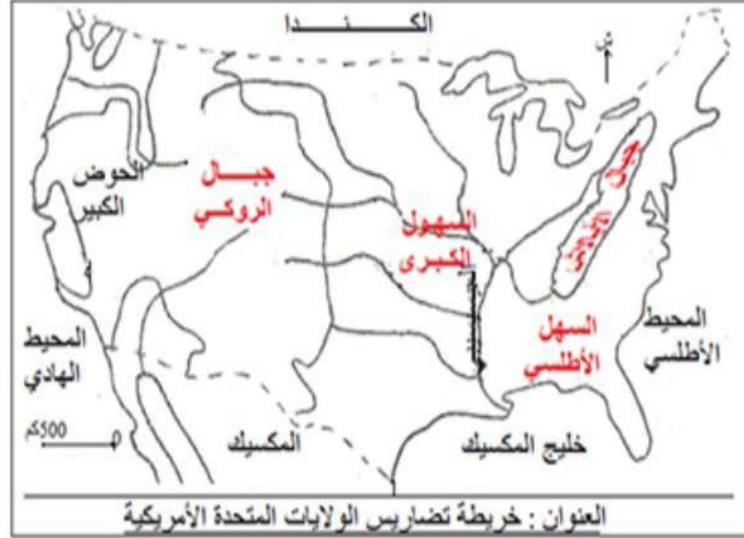




اصلاح الفرض التألفي الأول (المثال 2)

مدة: 60 دقيقة
المستوى التعليمي: 8 أساسي

I القسم الأول : (7 نقاط)



1. التمرين الأول: (انظر الخريطة) /2

2. التمرين الثاني
جنرال موتورس 2
فورد 4
شفرون تاكساكو 6
أكسون موبيل 9

3. عرف الحريرة ونسبة الأمية:

الحريرة هي وحدة قيس الطاقة التي تفرزها المواد الغذائية المستهلكة خلال يوم.

نسبة الأمية هي نسبة الذين لا يحسنون القراءة والكتابة ممن تجاوزوا سن الدراسة.

/3

II القسم الثاني : (11 نقطة) استغلال وثيقة :

المبادلات التجارية الأمريكية سنة 2012

1480	قيمة الصادرات بالمليار دولار
159	منها الفلاحية
2266	قيمة الواردات بالمليار دولار
104	منها الفلاحية
- 786	الميزان التجاري العام (عاجز/ فائض)
55	الميزان الفلاحي (عاجز/ فائض)

المصدر: ملامح العالم الاقتصادية لسنة 2013/2014

1. التمرين الأول:

هذه الوثيقة على شكل جدول ثابت يتعلق بموضوعه بالميزان التجاري الأمريكي سنة 2012 وقد وردت معطياته في ملامح العالم الاقتصادية لسنة 2013 و2014.

2. التمرين الثاني: (أنظر الجدول) /3

3. التمرين الثالث:

تتميز المبادلات الأمريكية بضخامة حجمها الذي تحتل به المرتبة العالمية الأولى كما تتميز بأهمية صادراتها من التقنيات العالية التي بلغت قيمتها 145.5 مليار دولار سنة 2012. إلا أن الميزان التجاري عاجز وقيمة عجزه ضخمة فقد بلغت سنة 2012 786 مليار \$ وإلى جانب ما تصدره من منتجات إلى العالم توفر الولايات المتحدة الأمريكية خدمات عديدة كالنقل والاتصال والإعلام والترفيه والإطعام وغيرها وتحقق بفضلها أرباحا طائلة تمكنها من تغطية جزء هام من عجز ميزانها التجاري وبذلك يظهر التكامل بين العديد من الخدمات التي توفرها الولايات المتحدة الأمريكية للعالم.

الصياغة والتنظيم /2





مادة: الجغرافيا
مدة: 60 دقيقة
المستوى التعليمي: 8 أساسي

الاسم:
اللقب:
القسم:

الفرض التالفي الأول

I القسم الأول : (7 نقاط)

1. عرف الحزام:

/2

.....
.....
.....

2. اربط الإنتاج الصناعي الأمريكي بنسبته

من مجموع الإنتاج العالمي سنة 2007: /2

- النفط المكرر ● 12.8 %
- السيارات ● 18.8 %
- المطاط الاصطناعي ● 19.6 %
- الألومنيوم ● 20.3 %

3. سجل هذه الأقطار في الواد المناسب من الجدول: (المملكة العربية السعودية - تونس - النيجر - تركيا - أستراليا - السودان) .

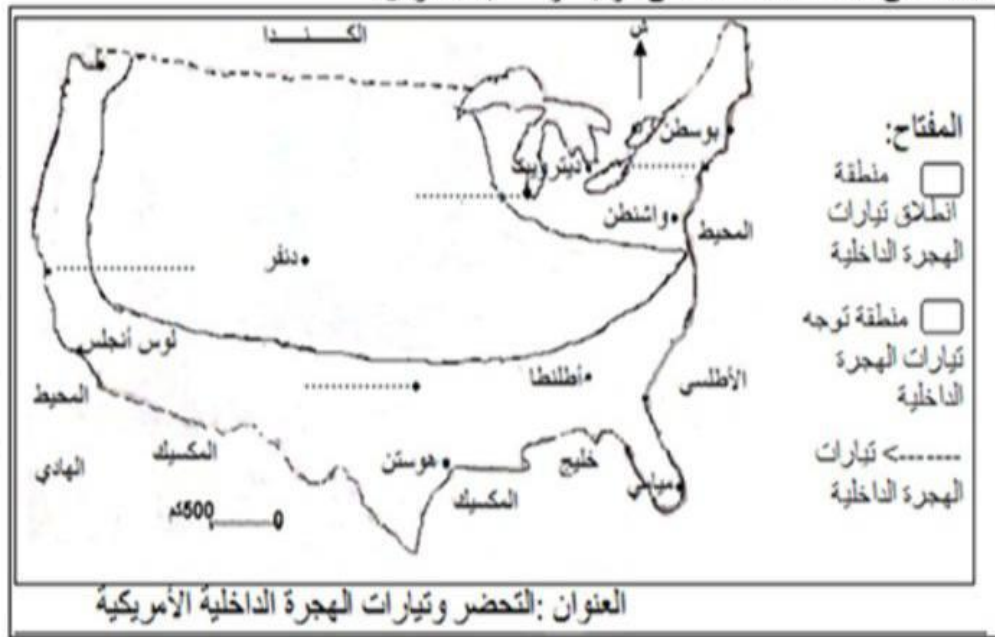
/3

بلدان فقيرة جدا	بلدان فقيرة	بلدان متوسطة الثراء	بلدان ثرية	بلدان ثرية جدا
.....
.....

I القسم الثاني : (11 نقطة) استغلال وثيقة :

أجب على الأسئلة بالاعتماد على الوثيقة ومستعينا بالدرس:

1. قدم نوع الوثيقة
وموضوعها :



2. سجل أسماء هذه المدن في المكان المناسب: (دالاس - نيويورك - شيكاغو - سان فرانسيسكو) وأكمل مفتاح الخريطة بما يناسب.

/3.5

3. ميز بلونين مختلفين بين منطقة انطلاق تيارات الهجرة الداخلية ومنطقة توجهها ثم أرسم تيارات الهجرة الداخلية

/5.5

بين المنطقتين وفسر هذه الحركية المجالية :

الصيانة والتدوير



اصلاح الفرض التاليفي الأول (المثال3)

I القسم الأول : (7 نقاط)

2. التمرين الثاني: /2

- النفط المكرر % 12.8
- السيارات % 18.8
- المطاط الاصطناعي % 19.6
- الألومنيوم % 20.3

1. التمرين الأول: /2

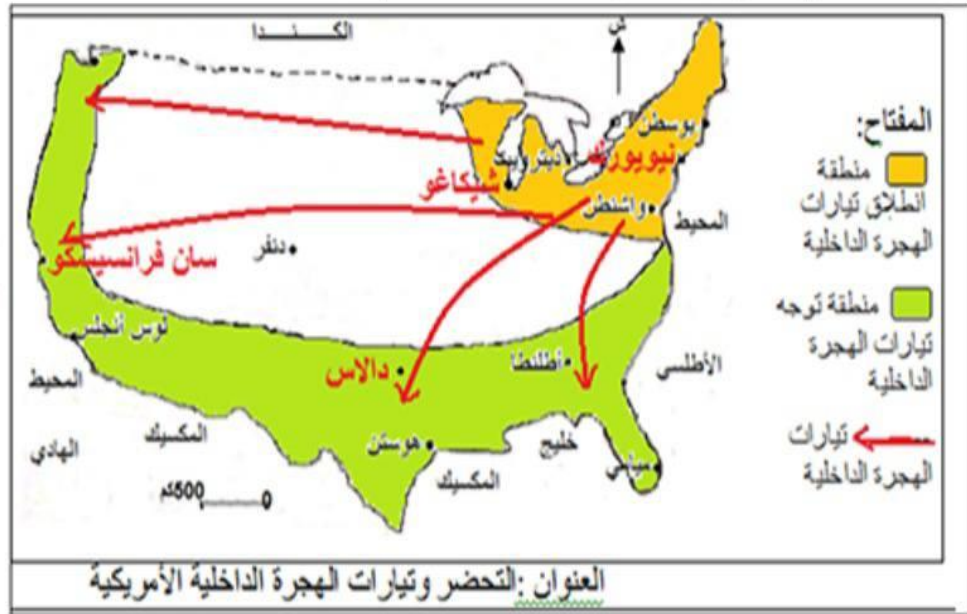
الحزام هو مصطلح أمريكي يشير إلى تخصص منطقة في انتاج فلاحى أو صناعى أو لها مميزات خاصة طبيعية أو غيرها مثل الأحزمة الفلاحية والحزام الصناعى القديم وحزام الشمس...

3. التمرين الثالث: /3

بلدان فقيرة جدا	بلدان فقيرة	بلدان متوسطة الثراء	بلدان ثرية	بلدان ثرية جدا
النيجر	السودان	تونس	تركيا	أستراليا المملكة العربية السعودية

I القسم الثاني : (11 نقطة) استغلال وثيقة :

1. التمرين الأول : /2
هذه الوثيقة على شكل خريطة تتعلق بموضوعها بالتحضر وتيارات الهجرة الداخلية الأمريكية.



2. التمرين الثاني: (انظر الخريطة) /3.5

3. التمرين الثالث: (انظر الخريطة والتفسير الموالي) /5.5

شهدت مدن الشمال الشرقي الأمريكي وخاصة الميغالوبوليس في نهاية القرن العشرين تباطؤا كبيرا في نسق نموها باستثناء مدينة واشنطن العاصمة الفدرالية وتعتبر هذه الوضعية عن فتور نموها الاقتصادي بحكم اكتمال هذا النمو إلى درجة عجز هذه المنطقة عن استقطاب أنشطة اقتصادية كبرى فأصبحت منفرة للمستثمرين والشباب الباحثين عن مواطن شغل مناسبة وأصبحت منطقة حزام الشمس الممتدة في الجنوب والغرب وجهتهم الرئيسية لما يتوفر فيها من عوامل طبيعية كالمناخ الملائم والثروات الباطنية المتنوعة فزادت هذه الهجرة الداخلية في تنشيط هذه المناطق الحديثة الاستثمار بتوفير رؤوس الأموال واليد لة المختصة.

2. السياحة والتنظيم



القسم الأول : (6 نقاط)

12 2. عرف الشركات عبر القطرية :

12 1. اربط المناخ الأمريكي بمنطقة تواجده:

- شبه المداري الرطب
- القاري الرطب
- المتوسطي
- المحيطي
- الجنوب الغربي
- الجنوب الشرقي
- الشمال الشرقي
- الشمال الغربي

12 3. اذكر مظهرين لخدمة الدولة الأمريكية مصلحة المؤسسات الأمريكية :

II القسم الثاني : (12 نقطة) استغلال وثيقة :

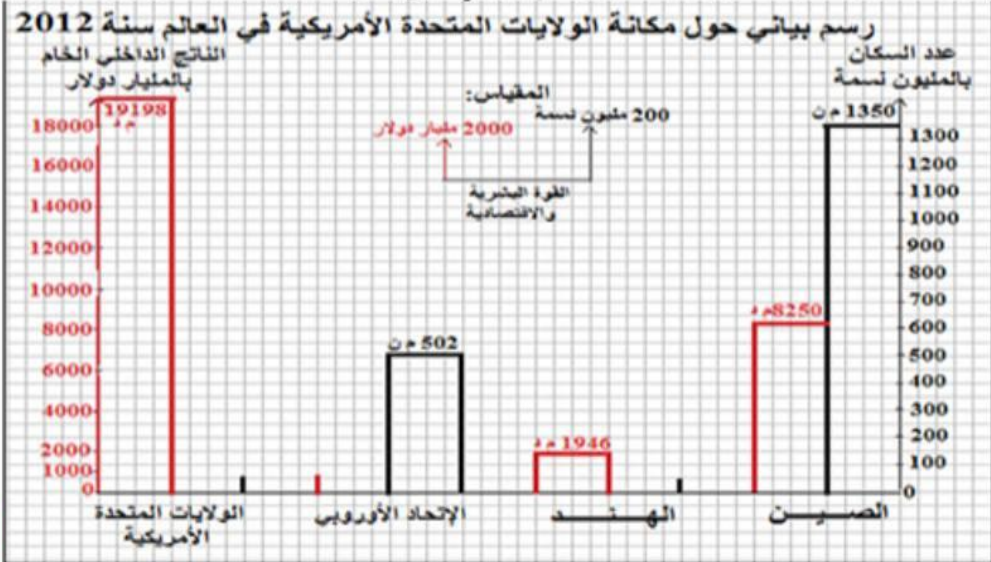
مكانة الولايات المتحدة الأمريكية في العالم سنة 2012

1. قدم الوثيقة (نوعها
موضوعها مصدرها) وأكمل
الفراغات فيها:

ناتجها الداخلي الخام بالمليار دولار (ورتبتها)	عدد سكانها بالمليون نسمة (ورتبتها)	القوة البشرية والاقتصادية
8250 (.....)	1350 (1)	الصين
1946 (.....)	1260 (.....)	الهند
15700 (.....)	502 (.....)	الإتحاد الأوروبي
19198 (.....)	314 (.....)	الولايات المتحدة الأمريكية

المصدر: ملامح العالم الاقتصادية لسنتي 2013/2014

14 2. استعن بمعطيات الوثيقة لاكمال الرسم البياني على شكل أعمدة حسب المقياس المحدد:



3. بين مكانة الولايات المتحدة الأمريكية في العالم من حيث عدد السكان والناتج الداخلي الخام ماذا تستنتج؟:

14 الصيانة والتكنولوجيا





مادة: الجغرافيا
المدة: 60 دقيقة
المستوى التعليمي: 8 أساسي

اصلاح الفرض التألفي الأول (المثال 4)

I القسم الأول : (6 نقاط)

2. التمرين الثاني :
الشركات عبر القطرية هي مؤسسات كبرى متعددة الأنشطة لها فروع كثيرة في الخارج للاستفادة من ضعف الأجور والضغط على تكاليف الانتاج والاستفادة من أهمية السوق الاستهلاكية.

1. التمرين الأول:
شبه المداري الرطب ● الجنوب الغربي
القاري الرطب ● الجنوب الشرقي
المتوسطي ● الشمال الشرقي
المحيطي ● الشمال الغربي

12

3. التمرين الثالث:

- التخفيض في الأداءات.

- الحد من العقبات أمام ترويج الانتاج.

II القسم الثاني : (12 نقطة) استغلال وثيقة :

مكانة الولايات المتحدة الأمريكية في العالم سنة 2012

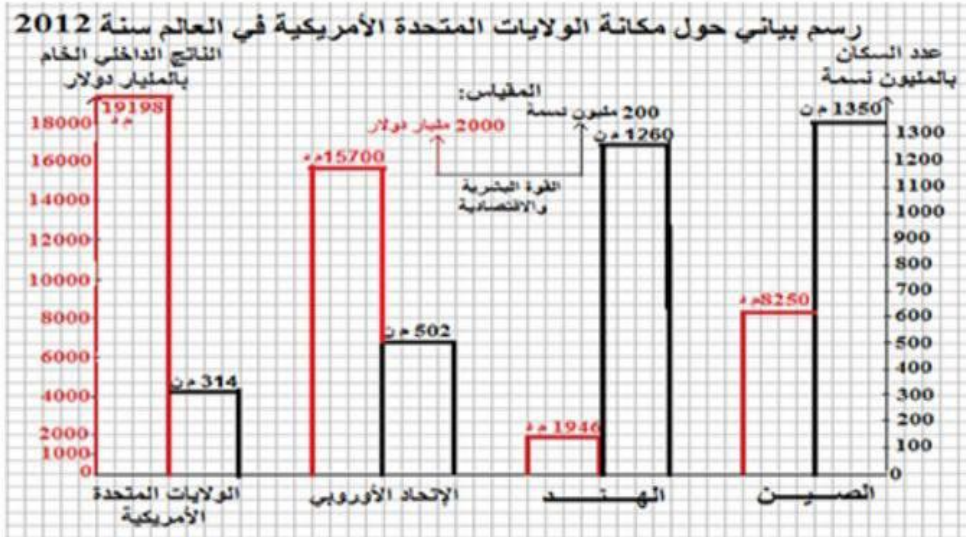
القوة البشرية والاقتصادية	عدد سكانها (بالمليون نسمة) (ورتبها)	ناتجها الداخلي الخام (بالمليار دولار) (ورتبها)
الصين	(1) 1350	(3) 8250
الهند	(2) 1260	(4) 1946
الإتحاد الأوروبي	(3) 502	(2) 15700
الولايات المتحدة الأمريكية	(4) 314	(1) 19198

المصدر: ملامح العالم الاقتصادية لسنتي 2013/2014

1. التمرين الأول:
هذه الوثيقة على شكل جدول ثابت تتعلق موضوعه بمكانة الولايات المتحدة الأمريكية في العالم سنة 2012 من خلال مقارنة عدد سكانها وناتجها الداخلي الخام بكل من الصين والهند والإتحاد الأوروبي. وقد أخذت معطيات هذا الجدول من ملامح العالم الاقتصادية لسنتي 2013 و2014.

2. التمرين الثاني:

14



3. التمرين الثالث:

تظهر مكانة الولايات المتحدة الأمريكية المتميزة على المستوى العالمي فهي تحتل المرتبة العالمية الرابعة على مستوى عدد السكان بحوالي 5% من مجموع سكان العالم لكن ناتجها الداخلي الخام تجاوز سنة 2012 ضعف ما توفره الصين يمثل سكانها حوالي 20% من مجموع سكان العالم. وبذلك نستنتج قوة الاقتصاد الأمريكي الذي يتميز بتطور كل ته واعتمادها على التقنيات الحديثة.

الصيانة والتنظف



مرحبا بكم علي منصة مراجعة



COLLEGE.MOURAJAA.COM



NEWS.MOURAJAA.COM

