



السنة الثامنة  
2023

فرض مراقبة في الجغرافيا  
الثلاثي الثالث



شعار السياسة السكانية بالصين:

.....  
.....




القسم الأول: (6 ن)

تمرين رقم 1:

- أكمل عنوان الوثيقة.
- أذكر تاريخ اعتماد هذه السياسة

تمرين رقم 2:

خريطة المجال الصناعي بالصين



- ضع أسماء المراكز الصناعية التالية في المكان المناسب : بيكين - شنغاي - يوهان.
- بماذا تفسر من خلال الخريطة تركيز الصناعة بالساحل الشرقي للصين.

القسم الثاني: (12 ن)

هل الصين مصنع جديد للعالم  
إن الصناعة الصينية صعدت إلى الرتبة الرابعة عالميا و حصتها من هذه السوق تصل 50% من الآلات الفوتوغرافية

و 30% من المكيفات الهوائية و أجهزة التلفاز و 25% من آلات التصوير و 20% من الثلاجات.

بقدرتها على التخفيض الدائم من تكلفة الإنتاج و الذي يصل إلى أقل ب135 مرة عن اليوم. أ و 10 مرات عن تايوان تقوم الصين بخلخة توازن الأسواق و تصدر شركات العالم إلى إعادة التنظيم و فتح فروع لها بالصين.....

إن انضمام الصين للمنظمة العالمية للتجارة خلق لديها دفعا قويا فالاستثمارات الخارجية لا زالت تنمو و تكلفة اليد العاملة لن ترتفع في الزمن القريب لسببين على الأقل، أولا البطالة الحقيقية لازالت مرتفعة، ثانيا الصين تضم احتياطيها مهما من اليد العاملة الغير مشغلة بشكل كامل في الأرياف و التقديرات تشير إلى أنه في العشرين سنة الفارطة هناك 100 مليون نسمة من سكان الأرياف تحولوا نحو المدن بحثا عن العمل..... الهجرة القروية في بدايتها.  
ملاح العالم الاقتصادية 2004

- (1) أبرز مظاهر قوة الصناعة الصينية و مكانتها في العالم.
- (2) استخرج من النص عوامل بروز الصين كقوة صاعدة.






# CORRECTION

القسم الأول:

تمرين رقم 1:

- الوثيقة معلقة اشتهارية تجسد السياسة السكانية بالصين و يمكن عنونها بما يلي:  
"طفلان شي كثير، طفل واحد شيء رانع"  
- اعتمدت الصين سياسة الطفل الواحد منذ سنة 1979

تمرين رقم 2:



- تبرز خريطة المجال الصناعي التركز المفرط للأنشطة الصناعية بالساحل الشرقي للصين و يفسر ذلك بالعوامل التالية:
- تركز أهم الثروات الطاقية و المنجمية بالإقليم الساحلي
  - انفتاح هذا الإقليم على العالم الخارجي و استقطابه للاستثمار الخارجي
  - تركز أكبر نسبة من السكان به و توفر قوة عمل هائلة.



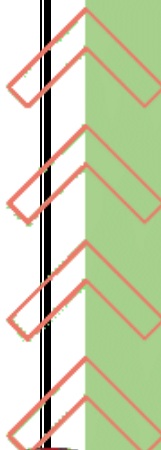


### القسم الثاني:

- 1- لأن كانت الصين من الدول النامية فإنها أصبحت تمثل قوة صناعية و تبرز قوة الصناعة الصينية من خلال:
  - تنوع انتاجها الصناعي
  - التركيز على صناعات التكنولوجيا العالية
  - غزو منتجاتها لكل أسواق العالم فحصدتها من السوق العالمية تتراوح بين 20% و 50% في بعض الصناعات الكهربائية و الالكترونية.
  - ← الصين قوة صناعية صاعدة تحتل المرتبة الرابعة عالميا و تنافس بحدة القوى الصناعية الكبرى في العالم كالولايات المتحدة و اليابان و دول أوروبا الغربية.
- 2- يُفسر بروز هذا العملاق الصناعي الجديد بحملة من العوامل من أهمها:
  - \* انخفاض كلفة الإنتاج (أقل بـ 135 مرة عن الولايات المتحدة) ← قدرة تنافسية عالية مكنتها من اكتساح كل الأسواق.
  - \* توفر قوة عمل ضخمة بفضل الحجم السكاني الهائل و تدفق الملايين من سكان المناطق الريفية على المدن الصناعية الكبرى ← يد عاملة بأجور ضعيفة.
  - \* استقطاب الاقتصاد الصيني للاستثمار الجارحي و الشركات العبر قطرية لتركيز فروع لها بالصين منذ انتهاء سياسة الانفتاح الاقتصادي و الانخراط في نظام التبادل الحر.



COLLEGE.MOURAJAA.COM







**COLLEGE.MOURAJAA.COM**

