

/20


الضارب : 1:

التوقيت : 1/2 ساعة

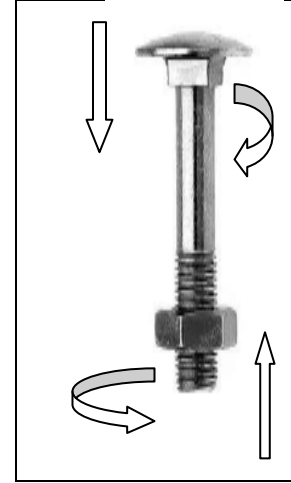
2016 / /

الأسئلة :السؤال الأول: (08 ن /)

(1) أكمل الفراغ بما يناسب : يميني - يساري



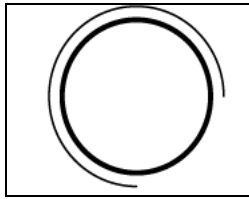
مسمار ربط يحتوي على



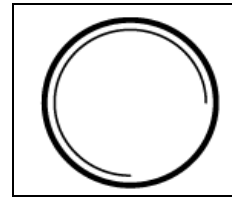
مسمار ربط يحتوي على

.....

(2) أذكر نوع اللولب الموجود على كل قطعة حسب رسمها المقنن



لولب



لولب

السؤال الثاني: (12 ن /)

أ - أكمل المسقط اليساري لجسم الموقد الغازي حسب القطاع A-A

ب - أرقم اللوالب

القطعة من مادة الفولاذ

السلم 1:1

