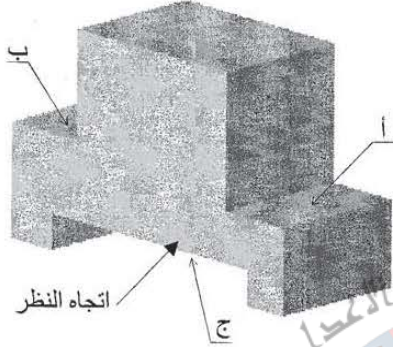




## الاشكال الموشورية

### تمرين عدد 1:

(1) أتمم رسم منصة التتويج حسب اتجاه النظر على الرسم المنظوري وعلى المساقط التالية: (اليميني - اليساري - العلوي)





(2) سمّ الأشكال المنجزة على القطعة.

- أ- .....
- ب- .....
- ج- .....



COLLEGE.MOURAJAA.COM






**التمرين عدد 2:**

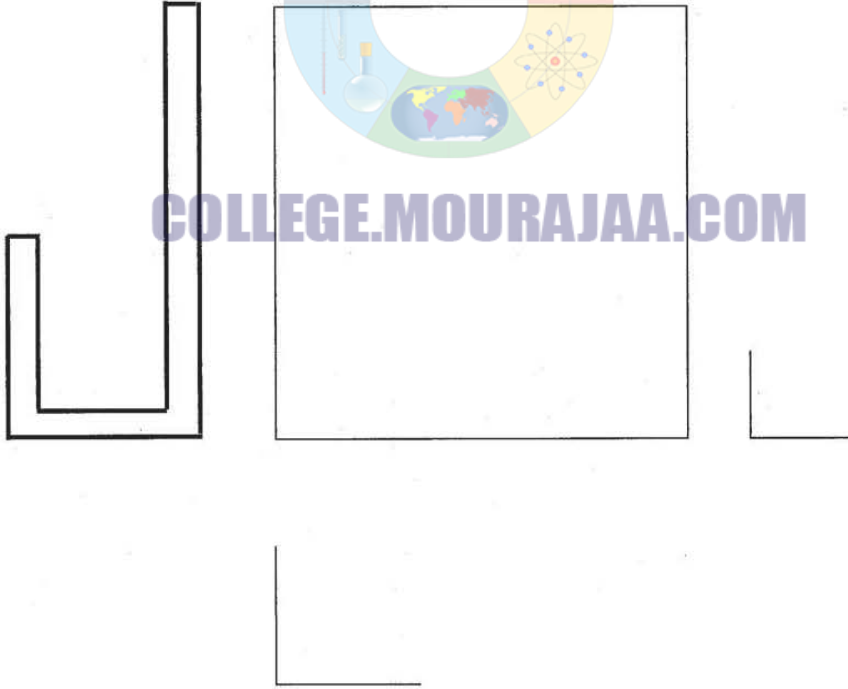
1) أتمم رسم حامل أوراق لمكتب حسب اتجاه النظر على الرسم المنظوري وعلى المساقط التالية: (رأسي - يميني - يساري - علوي وسفلي)

سلم 1:1

2) رقم الأبعاد الخارجية للقطعة



COLLEGE.MOURAJAA.COM

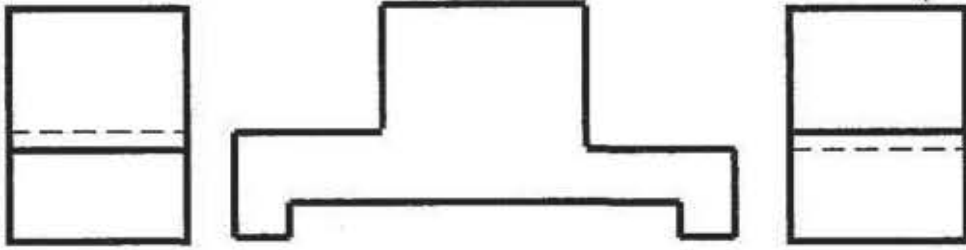




# CORRECTION

التمرين عدد 1:

(1)

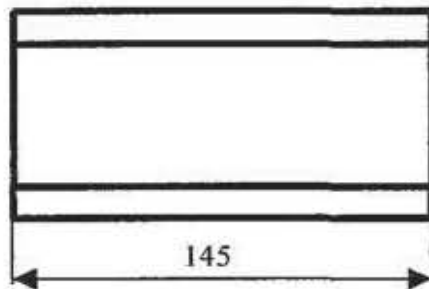
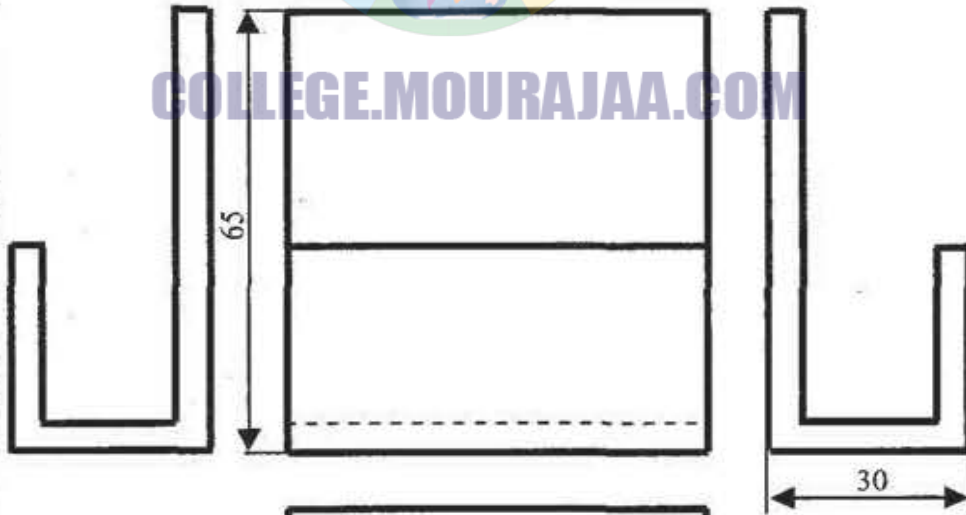


(2)

أ- حز / ب- حز / ج- مجرى

التمرين عدد 2:

(1 و 2)





COLLEGE.MOURAJAA.COM

